

# 國民中學學生基本學力測驗

# 社會科

## 模擬題本

# 第 4 回

※測驗範圍：第 3 冊

※總分：80 分  
※測驗時間：70 分

※範圍細目：

【地理】 中國地理通論篇  
【歷史】 中國遠古時期到明清盛世  
【公民】 政治與生活

總分

80分

年\_\_\_\_班\_\_\_\_號 姓名：\_\_\_\_\_

### ◎請閱讀以下測驗作答說明：

#### 測驗說明：

這是國民中學學生基本學力測驗社會科題本，題本採雙面印刷，共 11 頁，有 63 題選擇題，每題都只有一個正確或最佳的答案。

#### 注意事項：

1. 所有試題均為四選一的選擇題，答錯不倒扣。
2. 試題中所附圖形，僅作為參考，不一定代表實際大小。
3. 可利用題本中空空白部分計算，切勿在答案卡上計算。

#### 作答方式：

1. 題本直接作答：  
請依照題意從四個選項中選出一個正確的答案，填寫在題號前的括弧中。
2. 也可搭配答案卡作答：  
請依照題意從四個選項中選出一個正確的答案，並用 2B 鉛筆在答案卡上相應的位置畫記，請務必將選項塗黑、填滿。如果需要修改答案，請使用橡皮擦擦拭乾淨，重新塗黑答案。若答案為 B，則將 (B) 選項塗黑、塗滿。即：(A)●(C)○(D)

以下為錯誤的畫記方式可能導致電腦無法正確判讀。

如：

(A)	●	(C)	○	(D)	—
(A)	(B)	(C)	(D)	(D)	—
(A)	●	(C)	(D)	(D)	—
(A)	●	(C)	(D)	(D)	—
(A)	●	(C)	(D)	(D)	—
(A)	●	(C)	(D)	(D)	—
(A)	●	(C)	(D)	(D)	—
(A)	●	(C)	(D)	(D)	—

未將選項塗滿  
未將選項塗黑  
未擦拭乾淨  
塗出選項外  
同時畫記兩個選項

#### 參考配分：

單題：1. ~ 46 題每題 1 分，47. ~ 55 題每題 2 分  
題組：56 ~ 63 題每題 2 分  
共 80 分

一、單題：(1~55題)

( ) 1. 圖(一)將中國畫分為A、B、C三大區塊，各區塊的GDP、都市化程度、人口數等各項數據均顯示A>B>C，且差距很大，此圖顯示中國近年面臨下列哪一項問題？

- (A)人口結構組成不均 (B)教育程度低落  
(C)區域發展不均 (D)自然資源不足。

( ) 2. 「該區域是中國人民主要生活空間，農、工、商業各項活動集中於此，中國最大都市即位於此種地形上。」上述所指的地形為何？

- (A)丘陵  
(B)平原  
(C)盆地  
(D)高原。

( ) 3. 仔細判讀圖(二)，研判圖中甲~丁地何者「四季皆夏」？

- (A)甲  
(B)乙  
(C)丙  
(D)丁。

( ) 4. 橋子依據圖(三)研究中國地形分布特徵。由圖判斷■地形的形成與哪一地質作用密切相關？

- (A)河流沖積  
(B)雨水溶蝕  
(C)海水侵蝕  
(D)風力堆積。

( ) 5. 松板老師指著中國地形圖說：「西半部山脈多呈東—西走向或西北—東南走向」，並請四位同學說明原因，下列哪一位同學的說法是正確的？

- (A)小新：印澳板塊擠壓歐亞板塊  
(B)妮妮：大陸冰河侵蝕作用  
(C)風間：歐亞板塊張裂作用  
(D)小葵：火山作用溶岩噴出。

( ) 6. 公職選舉時，某人舉出兩個因政府施政不當，導致國家危機的例子，並藉此說明他的治國理念。請問：下述人物的觀點最接近中國哪一學派的思想家？

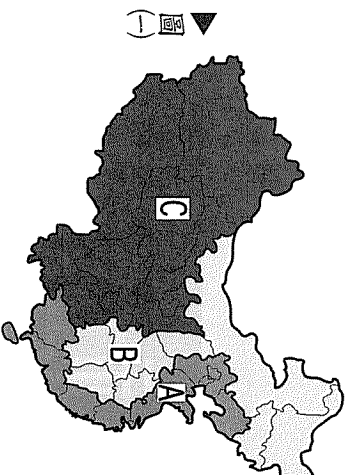
一、有位正直的人，向地方官檢舉他的父親偷了一頭羊。地方官卻下令將他殺掉。從此以後，沒有人敢向政府報告事情。

二、一位軍人每戰必敗，問他原因。軍人說是家裡有老父要奉養。政府不但不治罪，反而予以嘉獎。這個國家的軍隊從此再也無法打勝仗。

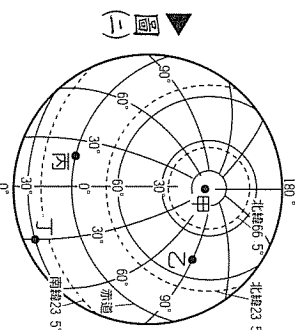
- (A)孔子 (B)荀子  
(C)老子 (D)韓非子。

( ) 7. 紀傳體是以替人物立傳記的方式記載史實。中國的正史「二十四史」都以紀傳體編纂而成。若要以傳記方式了解戰國時代「荊刺秦王」的故事，最可能查閱的史書為下列何者？

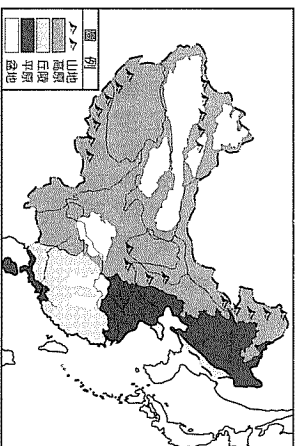
- (A)陳壽 三國志 (B)司馬光 資治通鑑  
(C)班固 漢書 (D)司馬遷 史記。



圖(一)



圖(二)



圖(三)

- ( ) 8 楊中偉上網搜尋得到下列資料：

一、東突厥戰敗，原來臣屬於東突厥的部落，紛紛歸順，並對皇帝獻上「天可汗」的稱號。

二、此位君主最大特色，為他對夷狄一視同仁，毫無歧視。

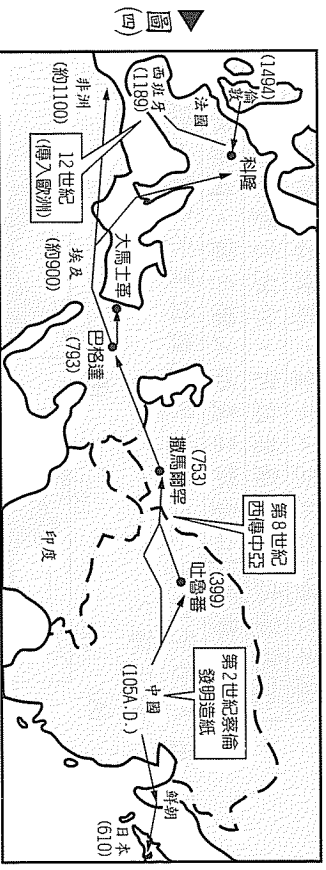
三、該帝王統治時，物阜年豐，四夷賓服，人民安樂，號稱治世。

四、「仁民愛物」的好皇帝。

根據上文，這項資料主要是關於哪一項盛世的歷史敘述？

- (A)開皇之治  
(B)貞觀之治  
(C)開元之治  
(D)康雍乾盛世。

- ( ) 9. 圖(四)是中國造紙術傳播的路線圖，8世紀撒馬爾罕（今烏茲別克境內）建立了中東第一座造紙作坊，8世紀末巴格達出現中東第二座造紙作坊，上述情形和哪一史事有關？



- (A)張騫通西域開闢絲路

- (B)蒙古三次西征

- (C)唐朝和大食帝國發生戰爭

- (D)耶穌會傳教士來華。

- ( ) 10. 以「經濟發展中或停滯」、「人口稠密或稀疏」兩項指標，分析中學考生與地區經濟的關聯。表(一)有關科學制度與地區經濟發展的資料，何者為正確的解釋？

表(一)	發展·稠密	發展·稀疏	停滯·稠密	停滯·稀疏
新人比例	高	高	低	低
中第比例	高	低	高	低

- (A)反映南方士族日漸崛起

- (B)明清時期商人子弟，不得參加科舉考試

- (C)參加科舉考試的成功與否，與考生所屬地區的經濟情況無關

- (D)經濟發展中地區，考生通過科舉考試的機會較高。

- ( ) 11. 我國地方自治已行之有年，地方政府層級分級，因地制宜處理各項事務。請問：下列哪一個地方與基隆市的行政層級不同？

- (A)花蓮縣 (B)臺南市

- (C)臺中市 (D)屏東市。

- ( ) 12. 民國94年任務型國民大會代表在第七次憲法修正案中，通過了幾項重要規範，例如立法委員選舉制度改成「單一選區兩票制」，而要落實此種制度，「選區畫分」是一件重要的工作。請問：負責執行此政策內容的是下列哪一個單位？

- (A)總統府 (B)行政院

- (C)立法院 (D)監察院。

- ( ) 13. 我國立法院對行政院院長有提不信任案的權力，若不信任案通過，行政院院長可呈請總統解散立法院。請問：上述機制是基於何種政治原理所做的設計？

- (A)主權在民 (B)均權制度  
(C)分權制衡 (D)權能區分。

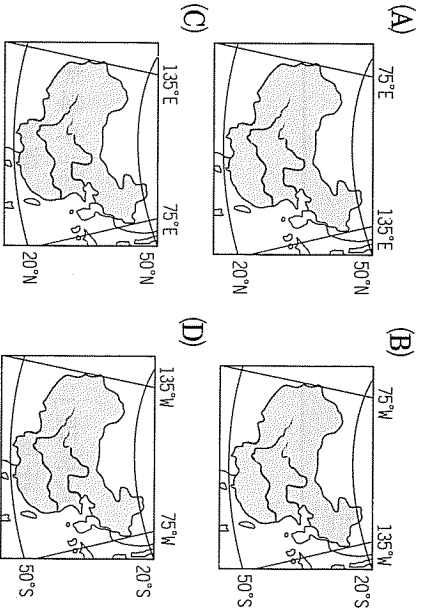
- ( ) 14 根據新聞報導指出：南韓政府決定全力要求美國政府，將駐韓美軍的停留期間從一年延長到兩年以上，因為駐韓美軍的長期工作，對北核問題等朝鮮半島安保管護穩定，具有正面的作用。請問：關於南韓和美國這兩個國家的統治方式，下列何者是正確的？

- (A)兩者皆為君主  
(B)兩者均為共和  
(C)兩者均為民主  
(D)兩者均為獨裁。

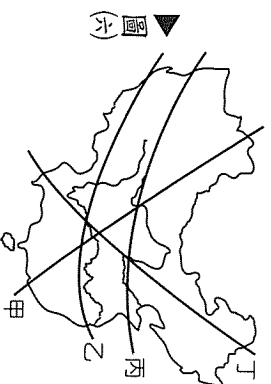
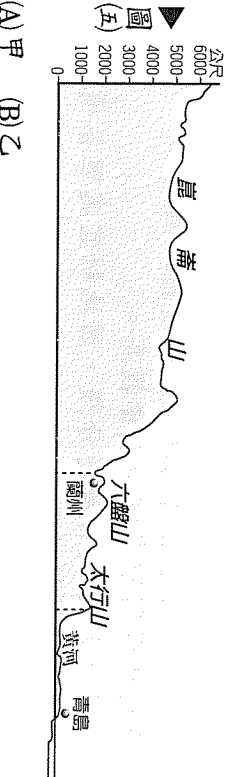
- ( ) 15 永續國幸福縣將於今年年底舉行縣長改選，下表是四位縣長候選人提出來的政見，請就四位參選人提出的政見內容，判斷何者屬於縣長的職權？

姓名	主要參選政見
(A)周錫維	修改財政收支畫分法，促進地方產業升級
(B)朱立崙	發放老人年金，推動各校鄉土課程發展
(C)蘇煥志	建立廉能政府，於地方增設地方法院
(D)楊秋星	以臺灣名義加入聯合國，拓展外交關係

- ( ) 16 阿妙老師畫了四張中國絕對位置示意圖，請同學選出正確的一張。請問：下列何者最正確？



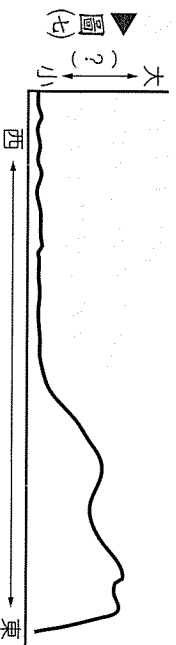
- ( ) 17 橘子畫了一張如圖(五)的中國地形剖面圖。請問：橘子是沿著圖(六)中哪一剖線畫出的？

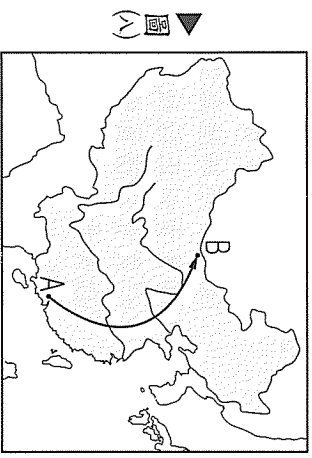


- (A)甲 (B)乙  
(C)丙 (D)丁。

- ( ) 18 柚子沿著圖(六)的丙剖線畫出統計圖(如圖(七))，糊塗的他忘記標上縱軸項目，桃子好心幫他填上。請問：桃子幫他填上的應為何種指標？

- (A)小麥產量 (B)人口密度  
(C)地勢高低 (D)羊群數目。





圖(A)

- ( ) 19 橘子駕駛輕航機從圖(A)的 A 點飛行到 B 點，飛行路線如圖中所示，俯瞰地表沿途所見到的景觀依序應為何？

(A) 礫漠、草原、沙漠、棉花田  
 (B) 棉花田、小麥田、黃土、礫漠  
 (C) 甘蔗園、水稻田、草原、棉花田  
 (D) 水稻田、棉花田、草原、礫漠。

- ( ) 20 如果中國地理位置沒有改變，但是地勢變成平坦無起伏，海拔高度平均僅 100 公尺，則中國地理環境最可能出現下列哪一變化？

(A) 地表沒有冰河地形  
 (B) 全境沒有沙漠景觀  
 (C) 南北的年溫差變小  
 (D) 東西部生活作息一致。

- ( ) 21 一位古董商人要出售以下文物：有金文刻寫其上的青銅器、張擇端的清明上河圖、利瑪竇的幾何原本譯本。他最可能是何時何地的商人？

(A) 唐末的長安  
 (B) 北宋的開封  
 (C) 明初的南京  
 (D) 清初的北京。

- ( ) 22 某時期一位洛陽青年，託父祖餘蔭，年方雙十，已居朝中要職，平日呼朋引伴，悠遊山林，競尚玄虛。官員們大多安於逸樂，卻自鳴清高，甚至將「居官無官官之事，處事無事事之心。」視為常態。請問：下列哪一個時期最能反映這種風氣？

(A) 東晉南朝  
 (B) 唐末五代  
 (C) 南宋時期  
 (D) 元朝時期。

- ( ) 23 人類為了適應環境，往往因地制宜，發展出具有地方特色的文化。中國區域發展的差異，即受到自然和人文因素的影響，反映在新石器時代的考古遺址，下表中的比較項目敘述，哪一項是正確的？

比較項目	黃河流域	長江流域
(A) 生活方式	定居農耕	逐水草而居
(B) 主要作物	稻米	小米
(C) 居室	半穴居	干欄式
(D) 墓葬	土坑木棺槨	水泥墓室

- ( ) 24 宋代城市生活的型態與機能，有延續前代而發展，也有迥異於前朝的變革。下列選項中，何者為宋代明顯不同於唐代的歷史發展？

(A) 坊市制度廢除  
 (B) 商店營業時間嚴格限制  
 (C) 城市商業繁榮，商幫勢力興起  
 (D) 士庶的生活方式差異拉大，社會更不自由平等。

- ( ) 25 有一位傳教士為了融入中國社會，換上儒服，練習用中國的語言。他把所傳的宗教與儒學相結合，更不惜修改教規，默許信徒祭拜祖先。這是哪一個教派在中國傳教的活動？

(A) 景教於唐代  
 (B) 伊斯蘭教徒於元朝  
 (C) 耶穌會教士於明末清初  
 (D) 長老教會牧師於清領後期。

( ) 26 小九子學完了政府機關一課，自行複習老師上過的部分內容，她想到「某機關下設有審計長，負責審核決算」，你能为她多加說明，找出符合此機關的正確敘述嗎？

- (A) 負責統帥陸海空三軍，有締結條約之權
- (B) 負責糾正行政機關的不當施政，任期八年
- (C) 負責公務員懲戒，設「公務員懲戒委員會」
- (D) 負責彈劾、糾舉違法或失職的公務人員。

( ) 27 新聞報導「臺鐵事故連連，因人為疏失，發生火車對撞意外，造成多人輕重傷，引起輿論的強烈指責，民意代表要求相關單位，除了檢討、改進之外，還要徹查相關人員的責任，同時要求相關的首長辭職。」請問：上述報導說明了民主政治的何種特色？

- (A) 民意政治、責任政治
- (B) 民意政治、法治政治
- (C) 法治政治、責任政治
- (D) 民意政治、政黨政治。

( ) 28 「政黨」與「利益團體」是現代國家自由開放的重要象徵。請問：下表中，四人探討兩者之關係與比較，何者的說法是正確的？

敘述內容	
(A) 仁杰	利益團體只關心和自身利益有關事項
(B) 宗緯	利益團體的成員異質性較高，甄選出具有才能的政治人才
(C) 宥嘉	政黨的目的是希望贏得大選，成為執政黨，與利益團體目的不同
(D) 敬騰	政黨對於各種議題皆須提出政策意見，不會受到利益團體影響

( ) 29 一名古姓男子因為闖紅燈被警察開紅單，為了逃避取締處罰，於是謊報哥的身分、資料簽名，等到罰單寄到家後，古姓男子的父親認為自己的大兒子在中國大陸工作，不可能違規，於是報警處理。請問：設置警察系統，可以實現政府的何種功能？

- (A) 安全
- (B) 秩序
- (C) 正義
- (D) 福利。

( ) 30 位於巴爾幹半島的科索沃，終於脫離塞爾維亞統治，宣布獨立。造成普里斯蒂納首都成千萬的民眾，走上街頭手足舞蹈，熱情揮舞著阿爾巴尼亞和美國、英國、德國等國支持科索沃獨立國家的國旗。請問：科索沃宣布獨立，表示哪一項國家要素獲得確立？

- (A) 人民
- (B) 領土
- (C) 政府
- (D) 主權。

( ) 31 阿妙教授專題演說內容提到「全球企業家均積極開拓中國市場」。請問：阿妙教授演說的專題最可能與中國的哪一項地理事實密切相關？

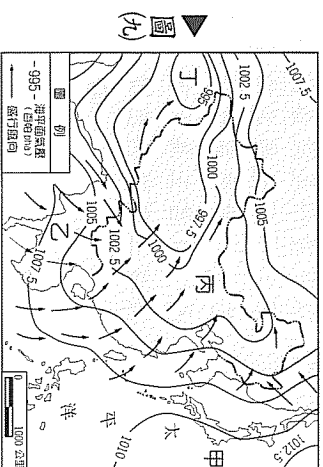
- (A) 中國人口貧窮問題嚴重
- (B) 中國少數民族系眾多
- (C) 中國人口總數居世界第一
- (D) 中國人口性別比例男多於女。

( ) 32 都市的興衰與交通建設相輔相成，下列有關中國城市沒落原因的敘述何者正確？

- (A) 開封：因大運河改造而沒落
- (B) 拉薩：因青藏鐵路完工而沒落
- (C) 天津：因京滬高速公路而衰退
- (D) 廣州：因香港回歸中國後港務流失。

- ( ) 33 圖(九)是中國大陸某一時節的地面天氣圖，圖中顯示當時風向與氣壓的關係。請問：圖中四地氣壓值最大與最小分別為哪兩地？

(A) 甲、乙  
(B) 丙、丁  
(C) 甲、丁  
(D) 乙、丙。

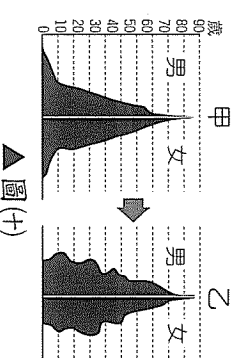


- ( ) 34 「事實(-)：東北三江平原原為『北大荒』，現今是栽培大量稻米的『北大倉』；事實(二)：新疆地區從傳統畜牧業轉變為棉花等作物栽培區，產量甚至超越華中、華北傳統栽培區。」針對中國上述農業經營型態的轉變，阿妙老師舉出下列可能的原因，並請同學判斷何項是正確的？

(A) 農產品種的改良  
(B) 水利工程技術提升  
(C) 開發新式交通路線  
(D) 市場需求大幅增加。

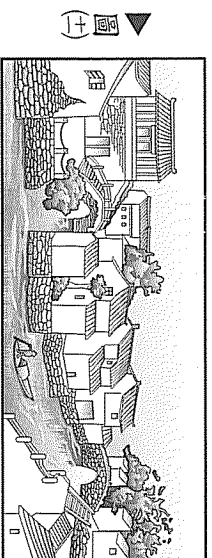
- ( ) 35 中國大陸在 1970~1990 年代間實施「一胎化」政策，已降低人口成長率，此一人口政策致使中國人口出現下列哪一現象？

(A) 性別比例小於 100 (B) 人口總數逐年減少  
(C) 都市化程度大幅增加 (D) 人口金字塔如圖(十)甲變為乙。



- ( ) 36 這個城市的風貌相當特別 (如圖(十一))，運河穿越市區，方便運輸居民所需的生活必需品。街道非常寬敞，可以行車或行船遊外遊各個城市。有詩描述它：「山外青山樓外樓，西湖歌舞幾時休，暖風風吹得遊人醉，直把杭州當汴州。」這座城市最可能是下列何者？

(A) 北京  
(B) 開封  
(C) 西安  
(D) 臨安。

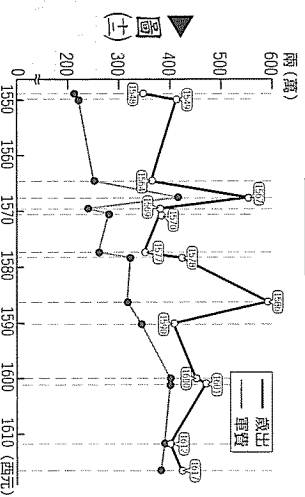


- ( ) 37 某歷史劇——「7 世紀商人李生傳奇」，被學者批評史實錯誤連連。劇中有以下幾段情節，請依據歷史知識判斷，哪一個選項是正確的史實資料？

(A) 李生原本住在長安城南，他把面對大街的住家，裝潢為店面  
(B) 接著李生來到南京，城內會館林立，他在會館內認識了許多同鄉  
(C) 後來李生在廣州經營奇珍異寶的貿易，接觸的商人有阿拉伯人  
(D) 最後，李生來到泉州，經營國際貿易，將中國的絲織品運往呂宋島銷售。

- ( ) 38 圖(十二)為某王朝代末期軍費大幅攀升，這個朝代中可看出此外患，必須增加稅收，因而引發國內為了民叛亂；朝廷為了應付農民叛亂，必須再增加軍費，卻促使叛亂擴大。在這內憂外患下，首都終於被農民攻陷。這應該是哪個一朝代？

(A) 東漢末  
(B) 唐末  
(C) 北宋末  
(D) 明末。



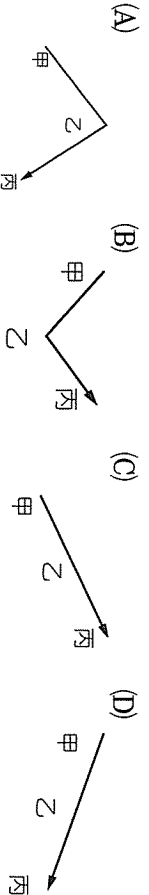
( ) 39. 以下資料是從春秋戰國到清末三個不同時期的士人對君主制度的看法：

甲：「百姓最足珍貴，江山社稷為次，君主要擺在最後。」

乙：「要委屈百姓以伸張君權；君權神授。」

丙：「君主為天下之大害，以前無君主時，人民反可自得其利。」

按這三項資料出現順序反映士人對君權位階的看法變化曲線為何？



( ) 40. 中國某一時期，乙國以歲幣對丙國換取和平；甲國原臣屬於丙，丙國需求不斷，導致甲國反叛；乙國與甲國聯合滅亡丙國（如圖(甲)）。請問：甲、乙、丙各是哪國家？

(A) 甲：金國；乙：北宋；丙：遼國

(B) 甲：蒙古國；乙：南宋；丙：金國

(C) 甲：遼國；乙：北宋；丙：西夏

(D) 甲：蒙古；乙：西夏；丙：金國。

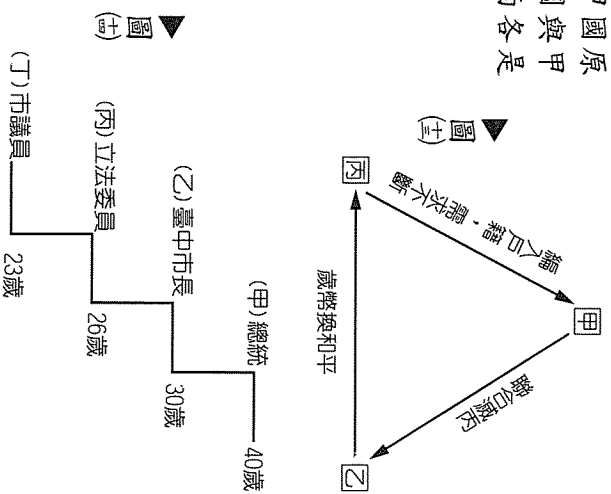
( ) 41. 依我國法律規定，只要符合一定要件，具有政治理念與服務熱忱的人，皆可出來參選為人民的謀福祉。請問：圖(甲)(乙)中四組年齡與參選職稱的配對，何者有誤？

(A)(甲)

(B)(乙)

(C)(丙)

(D)(丁)。



( ) 42. 酒醉駕車致人死傷的新聞事件時有所聞，行為人不僅拿自己的生命安全開玩笑，更對他人造成重大傷害。若發生此類事件，行為人不僅需依刑法承擔危險駕駛罪之責任，尚需依道路交通管理處罰條例被處以罰款，民事損害賠償的責任也不可避免。請問：上述所提到的法規，均哪一機關制定？

(A) 立法院

(B) 司法院

(C) 縣議會

(D) 國民大會。

( ) 43. 我國監察委員的產生方式是由總統提名，經立法委員同意任命之。請問：下表中哪一組人員的產生方式，和監察委員相同？

(A)	考試院院長、立法院院長、總統府祕書長
(B)	行政院院長、司法院院長、監察院院長
(C)	審計長、大法官、考試院副院長
(D)	省諮議會議員、外交部部長、考試委員

( ) 44. 地方政府設有行政機關與民意機關兩種。請問：下表中四組選項，哪一組均為行政機關？

(A)	嘉義縣政府、新店市公所、板橋市民代表會
(B)	豐原市民代表會、北港鎮鎮民代表會
(C)	銅鑼鄉公所、臺北市議會、平溪鎮公所
(D)	板橋市公所、新竹市政府、高雄縣政府



( ) 45 「選舉」對臺灣人民而言並不陌生，每年大大小小的選舉，讓人民能實際參與民主政治，而要能稱職扮演一位「選賢與能」的優質選民，主要應考量候選人的何種條件？

- (A)候選人的經濟情況
- (B)候選人的學歷經歷
- (C)候選人的品格操守
- (D)候選人的家庭背景。

( ) 46 阿妙老師講解完「水文」課程，在黑板上書寫其中部分重點，綜合比較整理成一張表格，如表(二)所示，因此阿妙老師請柚子同學將表中甲乙空格填上。請問：柚子該選擇下列何項填上才正確？

- (A)甲：秦嶺以南、乙：秦嶺以北
- (B)甲：距海遙遠、乙：臨近海洋
- (C)甲：海拔高度 > 4,000m、乙：海拔高度 < 1,000m
- (D)甲：北回歸線以北、乙：北回歸線以南。

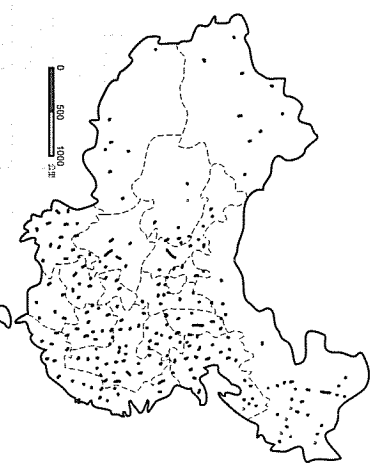
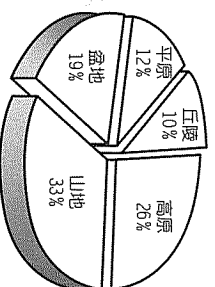
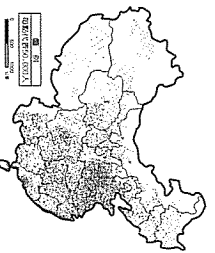
指標	甲		乙	
	地理特徵		地理特徵	
▲表(二)	(1)氣候乾燥溫差大	(1)氣候暖溼溫差小	(1)氣候暖溼溫差小	(1)氣候乾燥溫差大
	(2)多鹹水湖與內流河	(2)多淡水湖與外流河	(2)多淡水湖與外流河	(2)多鹹水湖與內流河
	(3)人口集中綠洲	(3)平原廣大人口密集	(3)平原廣大人口密集	(3)人口集中綠洲
	(4)居民多以畜牧維生	(4)居民多以農業維生	(4)居民多以農業維生	(4)居民多以畜牧維生

( ) 47 下表是中國境內四大河流的水文資料，其中何者最可能是黃河？

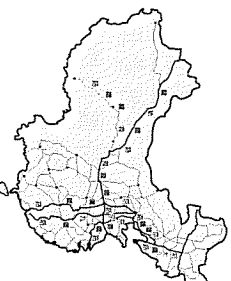
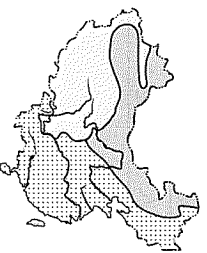
河流	流域面積 (萬 km <sup>2</sup> )	河流長度 (km)	年逕流量 (億 m <sup>3</sup> )	輸沙量 (kg/m <sup>3</sup> )
(A)	180.7	6,300	9,051	0.6
(B)	75.2	5,464	580	37.7
(C)	45.4	2,214	3,360	0.3
(D)	85.6	3,101	780	0.2

( ) 48 圖(五)是中國主要都市分布圖，其分布狀況與下列哪一個圖示最不相關？

- (A)人口分布圖
- (B)五大地形比例圖



- (C)中國三大氣候區
- (D)鐵路公路分布圖



( ) 49. 13 世紀，蒙古西征橫掃歐洲，建立龐大帝國；15 世紀，鄭和下西洋，遠到東非沿海。上述說明了中國疆域具有下列哪一特徵？

- (A) 面積廣大
- (B) 幅員完整
- (C) 位居中緯
- (D) 面海背陸。

( ) 50. 如果你要撰寫一篇探討宋代經濟活動的小論文，可以運用的資料，哪一項最不合？

- (A) 澶淵之盟規定：宋朝每年給遼銀十萬兩，絹二十萬匹
- (B) 張擇端繪清明上河圖，描述北宋城市的熱鬧景象
- (C) 從漢至宋的部分南北戶數統計表，數字的演變反映南方經濟漸趨繁榮
- (D) 山西票號史記載商人經營存、放、匯款三大業務。

( ) 51. 「這個時代政局動盪不安，人民多寄託精神於宗教之上。有一位帝王在位 48 年，三度捨身施佛，其後竟為侯景所逼，餓死臺城，國即滅亡；另一位君主則因信佛者甚眾，影響國計民生，所以強迫僧侶還俗，又沒收寺產，充為國用。」以上所述情景，最可能發生在哪一個朝代？

- (A) 唐代
- (B) 魏晉南北朝
- (C) 漢代
- (D) 明代。

( ) 52. 一位生長於魚米之鄉的湖泊子弟，在家書中提到軍旅生活說：「駐地……如圖〔六〕」。這種情況與下列哪一事件有關？



▲圖〔六〕

- (A) 成吉思汗西征
- (B) 明軍攻打蒙古
- (C) 清軍平定新疆
- (D) 湘軍攻打太平天國。

( ) 53. 小華整理了一份我國中央政府組織與職權的筆記，如下表所示。請問：表格中，何者是全部正確的？

選項	組織	職權
(A)	總統	有權發布緊急命令，但事後須經立法院追認
(B)	立法院	負責審核國家預算，向行政院提出施政報告
(C)	監察院	設憲法法庭，負責解釋憲法及統一解釋法律
(D)	考試院	設有銓敘部，負責公務人員升遷、行使懲戒

( ) 54. 請依我國選舉相關法規之內容，判斷下列何者正確？

- (A) 若欲登記參選政府官員，一定要獲得國內所屬政黨的提名
- (B) 若欲行使縣市長的投票權利，選民須在當地住滿六個月以上
- (C) 只要年滿 18 歲之人，即使受到褫奪公權宣告，也可以投票
- (D) 欲罷免公職人員，得由原選區選舉人向選舉委員會提出罷免。

- ( ) 55. 民主國家強調主權在民，由人民當家作主，而經由人民所選出來的國家元首，若無法符合人民的期望或違法失職，人民可以透過一定權利促使其下臺負責。表(三)是我國關於罷免與彈劾總統權利的比較表，何者敘述是正確的？

項目	(甲)原因	(乙)提案	(丙)複決權	(丁)影響
彈劾權	無法適任	司法院	憲法法庭	承擔政治責任
罷免權	違法失職	立法院	公民投票	承擔法律責任

- (A)(甲) (B)(乙)  
(C)(丙) (D)(丁)。

二、題組：(56～63題)

表(四)是中國境內四個地區傳統農業活動的行事曆，請依據圖中資料，回答第56～57問題：

地區	月分											
	1	2	3	4	5	6	7	8	9	10	11	12
甲	一期稻作						二期稻作					
乙	冬麥						玉米、小米					
丙	狩獵						春麥、高粱					
丁	小麥、棉花、瓜果											

▲表(四)

- ( ) 56. 表(四)的四地區中，何者冬溫最高、無霜期最長？  
(A)甲 (B)乙 (C)丙 (D)丁。
- ( ) 57. 有關甲、乙、丙、丁四地區的所在位置，下列何者正確？  
(A)甲：珠江三角洲 (B)乙：長江三角洲  
(C)丙：華北平原 (D)丁：藏南縱谷。

一位歷史學家說：「中國之教，得孔子而後立；中國之政，得秦皇而後行；中國之境，得漢武而後定。此中國之所以為中國也！」請根據上述資料，回答第58～60題：

- ( ) 58. 一群人居住在固定的土地上，未必能成為國家，還必須組織一個強而有力機關，這是組成國家的哪一個要素？  
(A)人民 (B)領土  
(C)政府 (D)主權。
- ( ) 59. 河南偃師二里頭發現的考古遺址中有大型宮殿，有些歷史學者推論：這個社會已粗具「國家」形態，極可能是夏代文化。下列哪一敘述可以說明上述觀察？  
(A)史記已對夏代作了相當有系統的記載  
(B)二里頭文化發現的文字證明夏代真的存在  
(C)二里頭出土文物可以證明夏禹治水的傳說  
(D)大型宮殿建築說明強而有力的機關已經存在，是組成國家的要素。
- ( ) 60. 史家指出，中國歷史上某一時期「有極關重要的四件事」：(一)為中國版圖之確立；(二)為中華民族之組成；(三)為中國政治制度之創建；(四)為中國學術思想之奠定。這應該是指哪一時期？  
(A)夏商周三代 (B)秦漢時期  
(C)魏晉時期 (D)隋唐時期。

請閱讀下列選文，並回答第61～63題：

根據新聞報導指出，美國民主黨總統參選人歐巴馬擊敗希拉蕊，而獲得確立，當初兩人在幾輪激烈的初選後，得到的黨代表票數還是不分上下，讓民主黨的總統候選人，一時還難以確定，最壞的情況就要出動超級黨代表來決定。因為除了各州初選、所產生的黨代表票外，民主黨內還有一個機制，那就是超級黨代表。超級黨代表，其實就是民主黨各州州長、參眾議員和重要的黨內人士，他們手中都還有一張黨代表票，這些超級黨代表可以在黨代表大會上、自己決定把票投給誰，所以在初選選情緊繃時，超級黨代表的重要性，也就相對提高。

- ( ) 61 民主社會中，許多政黨都設有黨內初選的機制，文中所提到的「超級黨代表票」也是為了落實初選的運作。請問：此種初選制度可發揮政黨何種功能？
- (A)培植與甄選政治人才  
(B)組織政府與監督政府  
(C)教育民眾與務選民  
(D)匯集人民利益與政策。
- ( ) 62 協商與整合不同意見是政黨政治運作中非常重要的一種方式，政黨內部更須如此以達到合作的態樣，上文中提及「民主黨」內部初選的激烈程度。請問：就美國的政黨型態而言，應屬於下列何種？
- (A)一黨獨大制  
(B)一黨專政制  
(C)兩黨制  
(D)多黨制。
- ( ) 63 在一向以白人為主的美國政治舞臺上，此次參選人歐巴馬，他的生父是來自肯亞的黑人，母親是美國白人，具有總族融合的色彩。在現今民社社會中的選舉制度，不問個人的種族，只要符合一定規定皆可參選。請問：這是體現了何種選舉原則？
- (A)直接原則  
(B)普通原則  
(C)平等原則  
(D)祕密原則。