

國民中學學生基本學力測驗

社會科

模擬題本

第 6 回

※測驗範圍：3～4冊

※總分：80分
※測驗時間：70分

※範圍細目：

【地理】中國地理複習
【歷史】中國歷史複習
【公民】政治、法律與生活複習

總分

80分

年 班 號 姓名：

◎請閱讀以下測驗作答說明：

測驗說明：

這是國民中學學生基本學力測驗社會科題本，題本採雙面印刷，共11頁，有63題選擇題，每題都只有一個正確或最佳的答案。

注意事項：

1. 所有試題均為四選一的選擇題，答錯不倒扣。
2. 試題中所附圖形，僅作為參考，不一定代表實際大小。
3. 可利用題本中空白部分計算，切勿在答案卡上計算。

作答方式：

1. 題本直接作答：
請依照題意從四個選項中選出一個正確的答案，填寫在題號前的括弧中。
2. 也可搭配答案卡作答：
請依照題意從四個選項中選出一個正確的答案，並用2B鉛筆在答案卡上相應的位置畫記，請務必將選黑、填滿。如果需要修改答案，請使用橡皮擦擦拭乾淨，重新塗黑答案。若答案為B，則將(B)選項塗黑、塗滿。即： (A) (B) (C) (D)

以下為錯誤的畫記方式可能導致電腦無法正確判讀。

如：
 (A) (B) (C) (D) 未將選項塗滿
 (A) (B) (C) (D) 未將選項塗黑
 (A) (B) (C) (D) 未擦拭乾淨
 (A) (B) (C) (D) 塗出選項外
 (A) (B) (C) (D) 同時畫記兩個選項

參考配分：

單題：1～46題每題1分，47～54題每題2分
題組：55～63題每題2分
共80分

一、單題：(1.~5.題)

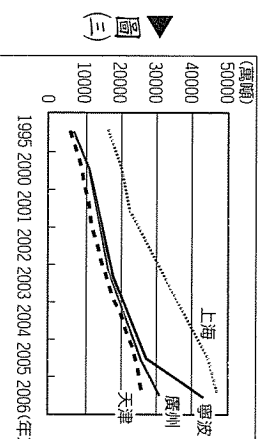
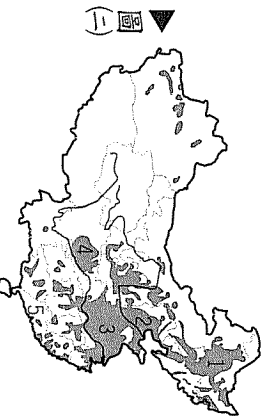
- () 1. 中央日報：「此地礦產資源極為豐富，號稱『能源流域』和『有色金屬長廊』；但水資源卻極為短缺，生態環境脆弱；這種資源特色加劇了開闢生態環境的衝突。」請問：上述報導所指的區域最可能是圖(一)中的何處？



- (A) 甲
(B) 乙
(C) 丙
(D) 丁。

- () 2. 圖(二)為中國可耕地分布狀況。請問：下列關於此圖的說明何者正確？

- (A) 「1」區為東北平原，土壤多為淋餘土
(B) 「2」區多沖積黃土，冬麥為主要糧產
(C) 「3」、「4」皆位於長江流域，一年三穫
(D) 「5」區平原狹小，耕作方式相當粗放。



- () 3. 圖(三)顯示中國營運量最大的四個港口其各年度的貨物進出口成長曲線圖，下列關於此圖的說明何者正確？

- (A) 四大港口中以天津港成長最快
(B) 四大港口均有腹地廣大的特色
(C) 上海因港闊水深成為第一大港
(D) 寧波因港口冬季結冰發展受限。

- () 4. 迎接新年第一道曙光已經成為每年重要的旅遊活動。請問：如果要規畫這樣的旅程，下列四個中國風景區中，何者最具有此條件？

- (A) 三峽大壩
(B) 九寨溝
(C) 蒙古草原
(D) 長白山。

- () 5. 瑞彥分析偶像投手鈴木次朗的比賽紀錄，發現「天氣愈冷，投球表現愈不好」，根據以上分析，若今年「寒假」比賽，下列哪個地方對鈴木投手最不利？

- (A) 高雄 (B) 重慶
(C) 上海 (D) 北京。

- () 6. 有一報導的部分內容如下：「這幾年修築了四千五百多公里的鐵路，超過十萬公里的公路，並新添一萬多公里以上的電報線路。教育也迅速普及，學齡兒童上小學的比例由 17% 增加到 43%；中學生的人數也增加了 60%。財政改革包括有關稅自主、幣制統一、建立度量衡標準制度、改革稅制等。」請問：根據上述報導的內容判斷，這現象可能出現在何時的中國？

- (A) 自強運動時期
(B) 新文化運動時期
(C) 北伐時期
(D) 黃金十年。

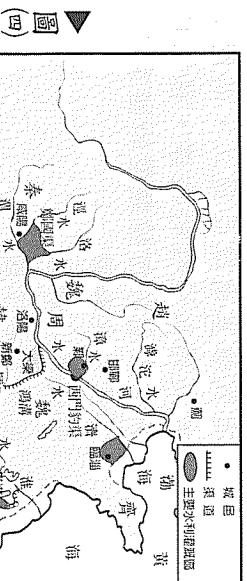
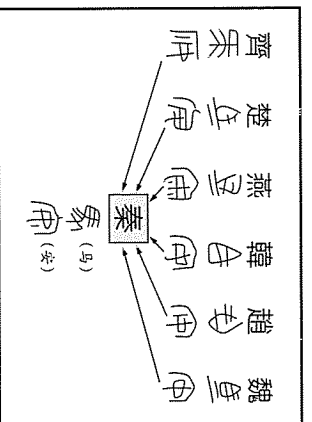
() 7. 清末，一群進京參加科舉考試的舉人，以康有為、梁啟超為首，聯合一千三百位考生上書抗議，後又擴增為三千名學生聯名上書皇帝，要求變法，並提出：「棄臺民請生之事小，散天下民之事大，割地之事小，亡國之事大，社稷安危，在此一舉。」請問：在上述內容應與哪一條約有關？

- (A) 南京條約
- (B) 天津條約
- (C) 馬關條約
- (D) 辛丑和約

() 8. 圖(四)為春秋時期水利工程圖。請問：圖中所代表的意義為何？

- (A) 政府推行井田制度
- (B) 水陸交通產量的增加
- (C) 農業生產產量的增加
- (D) 工商業的繁榮

() 9. 資料(一)：



資料(二)：秦始皇將商鞅變法所制定的度量衡制度，頒行天下，定一尺為 0.23 公尺，一升為 198.5 毫升，且採十進位。

根據資料(一)和資料(二)判斷，秦始皇用意為何？

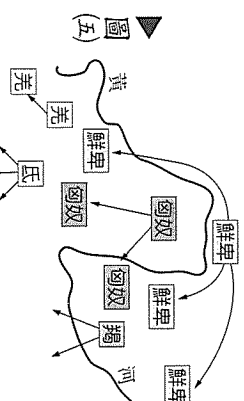
- (A) 推行井田制度
- (B) 實施漢化政策
- (C) 強化帝國的統一
- (D) 配合封建制度

() 10. 圖(五)為中國某時期外族遷徙形勢圖，圖中發展與下列哪一事件關係最密切？

- (A) 黃巾之亂
- (B) 永嘉之禍
- (C) 八王之亂
- (D) 靖康之禍

() 11. 圖(六)這則新聞是有關西藏的報導。從報導中我們可以了解，西藏人民長期以來所追求的是哪一個國家的核心要素？

- (A) 人民認同
- (B) 國家領土
- (C) 合法政府
- (D) 國家主權



圖(六)

翰林報報
1950年，西藏發生了一次政治事變，西藏精神領袖達賴稱這次事變為“起義”，而中國則認為這是一起“叛亂”……。2008年，西藏再次挺身而出爭取自己擁有的尊嚴，但卻遭受中共的鎮壓。

() 12 長久國正進行總統大選，由於之前的兩任總統選舉，九九黨均無功而返，因此對於這次的總統大選特別重視，希望能取回失去的執政權。請問：由大選獲勝者取得執政權力的做法，符合下列哪一項民主政治的運作原則？

- (A) 均權制度
(B) 多數制統治
(C) 分權制衡
(D) 權責相當。

() 13 科索夫於臺灣時間 2008 年 2 月 17 日宣布脫離塞爾維亞獨立，而圖(七)是有關科索夫獨立過程的報導，根據內容判斷，科索夫屬於何種類型的國家？

- (A) 民主共和國
(B) 獨裁共和國
(C) 獨裁君主國
(D) 立憲君主國。

▲圖(七)

科索夫國會，正式發布獨立宣言，並選出國旗和國徽。在科索夫，有九成的人，都是阿爾巴尼亞裔，但是卻長期受到塞爾維亞裔的壓迫，如今要宣布獨立，科索夫的首府，幾乎成為不夜城，情緒高昂的民衆，還在牆壁上貼滿了感謝英、美支持獨立的標語。同時，科索夫國會以 85 票對 22 票，同意由科索夫民主黨的塔奇和科索夫民主聯盟所籌組的聯合政府領導。

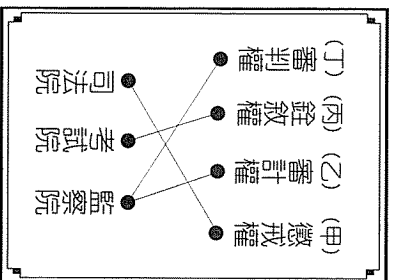
() 14 「忙休來」旅行社的 DM 上寫著：「位在國界上的太平洋發電場始建於 1979 年，是兩國合資興建的大中型水力發電廠之一，您可瀏覽由滔滔鴨綠江水帶來的秀美風光。」請問：這個水電站在中國和哪一個國家的邊境上？

- (A) 越南
(B) 哈薩克
(C) 北韓
(D) 俄羅斯。

() 15 圖(八)是小賴上公民課的作業，老師告訴小賴有個地方錯了，請您幫他檢查看看，哪一條連線是錯誤的？

- (A)(甲)
(B)(乙)
(C)(丙)
(D)(丁)。

▲圖(八)



- 調查報告
● 糾正案文
● 彈劾案文
● 糾舉案文
● 財產申報
● 利益衝突
● 政治獻金


▲圖(九)

() 16 小文瀏覽了某一政府機關的網頁，看到了圖(九)標題，根據內容判斷，小文應是來到了哪一機關的網頁？

- (A) 考試院
(B) 監察院
(C) 司法院
(D) 立法院。

() 17 中國大陸流行歌曲唱道：「俺們那答都是東北人，俺們那答特產 ，俺們那答豬肉燉粉條，俺們那答都是活雷鋒。」請問： 中提到的東北特產，最不可能填上什麼？

- (A) 人參
(B) 菸草
(C) 鹿茸
(D) 貂皮。



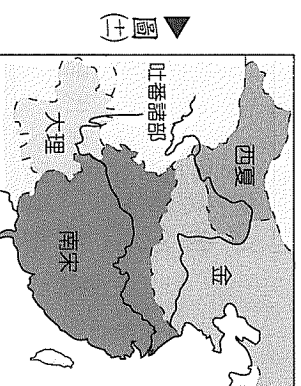
▲圖(十)

() 18. 北京奧運的吉祥物「迎迎」是保育動物(如圖(十))，生活在海拔4,300~5,100公尺的高山草原和高寒荒漠上。請問：她的故鄉最可能是何地？

- (A) 長白山地
- (B) 柴達木盆地
- (C) 內蒙古高原
- (D) 藏北高原

() 19. 南宋年間，段譽奉父命到西夏國參加公主的招親大會，發現此地雖是乾燥的沙漠區，但溝渠縱橫，稻田連綿，簡直就是一派江南風光，如圖(十一)所示。請問：這片良田是由哪一條河川提供水源灌溉而成的？

- (A) 淮河
- (B) 黃河
- (C) 長江
- (D) 松花江



▲圖(十一)

() 20. 「風沙滾滾天際來，白日屋裡點燈臺，行人出門路不見，大半草場沙裡埋。」請問：此內蒙古的順口溜中所描述的黃沙滿天景象，最可能發生在哪一個季節？

- (A) 春初
- (B) 夏初
- (C) 秋初
- (D) 冬初

() 21. 昌鈺是生活在魏晉南北朝時期的平民百姓，他在生活上可能遇到下列哪一種狀況？

- (A) 知識分子努力研讀四書、五經以求取功名
- (B) 社會開放，平民與世族皆可擔任政府的高級官員
- (C) 使用紙幣，購買夜市攤子的小吃
- (D) 常聽到士人談論老子、易經等玄理。

() 22. 國宏說：「要建立君主專制的集權國家，愈是有權威的君主，臣子愈是不敢作亂。」

杰倫說：「無為而治是最好的政治主張，所以，國君不要管太多，讓人民自己選擇。」

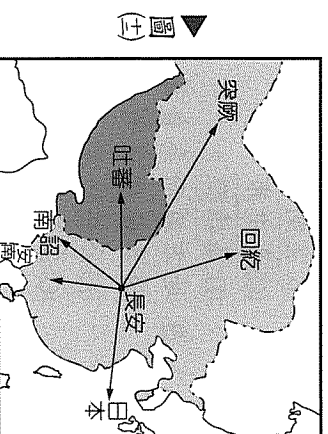
發哥說：「對人的關愛不要有差別，大家和睦相處不要有戰爭，任何戰爭對勝敗雙方都不利。」

仔仔說：「一個國家要達到富國強兵，就必須進行政治改革，君主應不擇手段實現自己的目的，而且要有狐狸般的狡猾和獅子般的勇猛。」

- (A) 國宏、仔仔
- (B) 杰倫、發哥
- (C) 國宏、杰倫
- (D) 發哥、仔仔

() 23. 根據圖(十二)判斷，這應該是哪一個朝代的對外經略情況？

- (A) 漢代
- (B) 唐代
- (C) 明代
- (D) 清代




▲圖(十二)

請翻頁繼續作答

- () 24 圖(土)為河南安陽出土的商代的甲骨文。以下四人對此文物提出看法，何人所說最符合史實？

陽修：又稱「卜辭」，是中國最早且已經定型的文字。
安石：刻在龜甲獸骨上的文字，由刻的內容來看，屬單純的圖畫階段。
蔡京：當時人相當迷信，將占卜的結果刻寫下來。
高俅：商代文字只有甲骨文，沒有其他文字。



▲圖(土)

- (A)陽修
(B)安石
(C)蔡京
(D)高俅。

- () 25 表(一)為唐代至宋代之間，政府官員出身的統計資料。請問：造成這種比例變化與何者有關？

▲表(一)

| 朝代 | 世族子弟 | 中等家庭 | 寒門 | 其他 |
|----|-------|-------|-------|-------|
| 唐 | 53.2% | 14.5% | 13.8% | 18.5% |
| 五代 | 9.8% | 26.1% | 50.0% | 14.1% |
| 宋 | 3.2% | 28.0% | 46.1% | 22.7% |

- (A)廢除坊市制度
(B)使用紙幣
(C)採用九品官人法
(D)實行科舉制度。

- () 26 在行政院任職的小丁，近來每天都加班到三更半夜，因為即將年度終了，必須將過去一年的經費作一決算，然後送往相關單位進行審查。請問：該審查單位是我國中央政府哪一機關及哪一部門？

- (A)考試院、銓敘部
(B)監察院、審計部
(C)司法院、憲法法庭
(D)立法院、財政委員會。

- () 27. 臺北市政府提出「北北基一網一本暨共辦基測」的教改政策，卻出現中央與地方意見分歧，臺北市政府強調調地方政府擁有管轄權。請問：這是基於何種政治原理所做的主張？

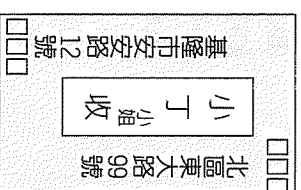
- (A)均權制度
(B)三權分立
(C)權能區分
(D)權力分立。

- () 28 小穎要寄情書給小丁，卻忘記小丁居住的縣市，請您依據信封表面(如圖(土))來判斷，小丁可能居住的縣市為下列何者？

- (A)苗栗縣
(B)宜蘭市
(C)臺中市
(D)高雄縣。

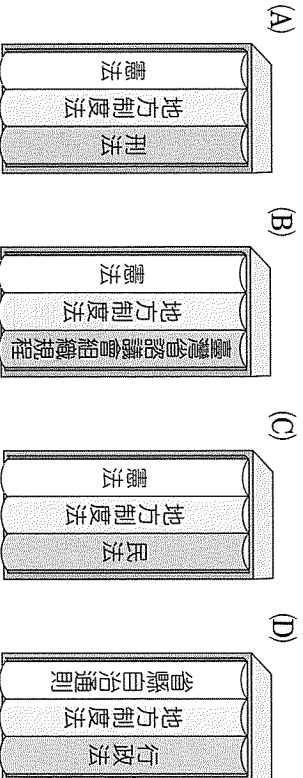
- () 29. 地方政府為自籌經費彌補財政，經營公營市場、設置公有停車場或發展地方觀光產業以招徠觀光客。這樣的作法我們稱之為何？

- (A)公共造產 (B)公共利益
(C)公共秩序 (D)公共衛生。

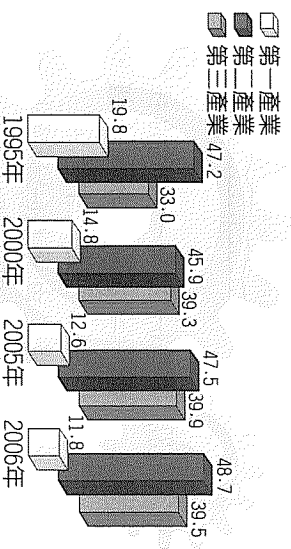


▲圖(土)

() 30 小賴上完公民課，想回家查詢有關地方自治的相關法令規定，以了解地方政府的相關權限，像是人事權與財政權等。請問：小賴可以查詢下列哪些法規？



() 31 圖(五)為中國各級產業產值占國內生產總值的百分比，根據圖中展有何趨勢？

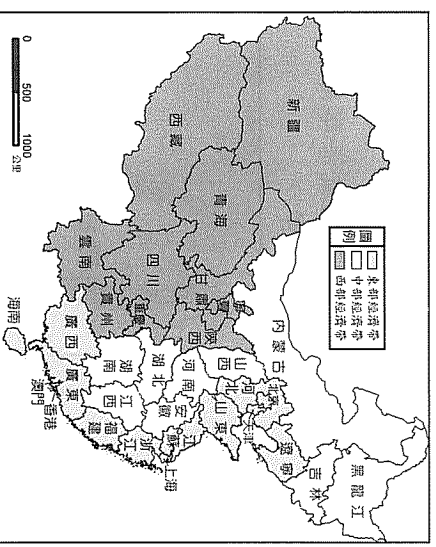


() 32 人民日報報導：「在同年齡組中，單身男性比例遠大於單身女性的比例遠大於100%。」請問：上述報導中所描述的現象主要受到中國哪個傳統觀念影響？

- (A) 重男輕女
- (B) 重農輕商
- (C) 重義輕利
- (D) 慎終追遠

() 33 圖(六)為中國三大經濟帶位置圖。請問：東部經濟帶的各省分多具有何種相似的工業區位條件？

▲圖(六)



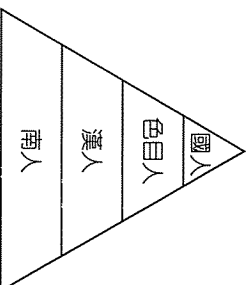
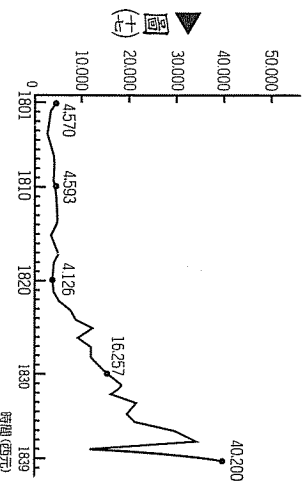
() 34 食品大廠雀巢公司因原料價格考量，決定到中國內蒙古高原一帶投資設廠。請問：在此地最可能投資哪一種產品？

- (A) 即溶咖啡
- (B) 巧克力棒
- (C) 檸檬紅茶
- (D) 全脂奶粉

() 35 寶寶發現不管到那家店買芭比娃娃，產地幾乎都是中國。請問：這主要是因為中國具有何種豐富？

- (A) 原料豐富
- (B) 技術先進
- (C) 勞工低廉
- (D) 市場龐大

- () 36. 圖(七)為 1801~1839 年，某一物資輸入中國數量，根據圖中曲線判斷，此物資為何？
- (A) 茶葉
(B) 鴉片
(C) 紡織品
(D) 軍用物資。



▲圖(六)

- () 37. 資料(一)：某一朝代的社會階層(如圖(六))。

資料(二)：職業分為十級，一官、二吏、三僧、四道、五醫、六工、七獵、八民、九儒、十丐。

請問：由資料(一)和資料(二)判斷，這種社會階層畫分法，出現在中國哪一朝代？

- (A) 魏晉南北朝
(B) 唐代
(C) 元代
(D) 清代。

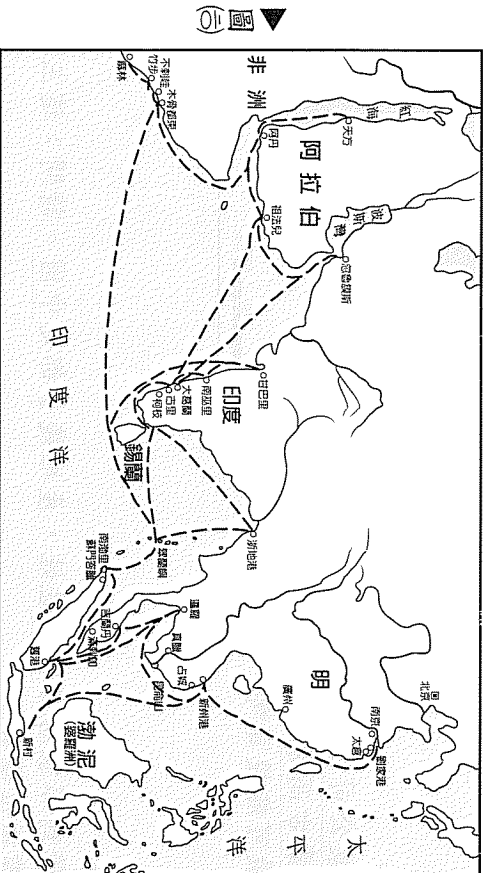
- () 38. 圖(八)為滿洲國大事紀。請問：滿洲國從成立到結束，都與哪一國家有關？

- (A) 日本
(B) 英國
(C) 俄國
(D) 美國。

▲圖(八)

1932年：滿洲國成立，首都為長春。
1932年3月：發表滿洲國建國宣言，溥儀執政。
1933年：所轄區域包括熱河(原本包括奉天、吉林、黑龍江)。
1934年：溥儀為滿洲國皇帝。
1945年：滿洲國結束。

- () 39. 老師拿出一張航海路線圖(如圖(九))，要同學們發表意見。以下哪一位同學所說的內容符合史實？



▲圖(九)

- (A) 小菁：此為鄭和和下西洋的路線圖，此航行目的在找尋往東方的航路
- (B) 淑真：鄭和和下西洋前後共七次，從劉家港出發最遠到達非洲西岸
- (C) 美林：此航行經過東南亞，加深了中國對東南亞國家的認識
- (D) 芳美：此航海壯舉，促進中國與歐洲的往來，奠定移民歐洲的風潮。

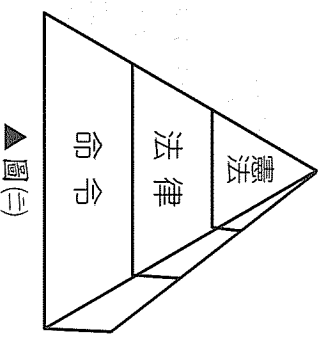
- () 40. 天主教在中國發展歷經幾次波折，清末又再度傳入中國，但在 1860~1900 年之間教案頻傳。請問：清廷因哪一事件的發生，宣布准許西方傳教士可以到中國內地傳教、遊歷及租買田地？
(A)鴉片戰爭 (B)英法聯軍
(C)中法戰爭 (D)八國聯軍。

- () 41. 2008 年臺灣總統大選結束後，落選的一方除發表祝賀之意外，同時呼籲所有選民應理性、冷靜接受選舉結果，這充分展現了何種精神？

- (A)責任政治
(B)公民素養
(C)權力分立
(D)分權制衡。

- () 42. 法律體系，是一個以國家的憲法為基礎，包括各項法律、條例、通則、規程、規則、細則、辦法、綱要、標準、準則或有權的法律解釋等全部法律文件的組成。因此，形成法律的地位階(如圖(三))。請問：該圖所呈現的是何種概念？

- (A)法律的效力
(B)法律最高性
(C)法律的優越
(D)法律的原則。



▲圖(三)

- () 43. F4 是翰林園天真無邪的小公民，有一天騎著他可愛的小龍貓，在翰林園裡逛大街，並且享受著日光浴，突然眼前出現白驚驚警察，告訴 F4 說：「我們懷疑你是專門偷別人內衣褲的變態狂，請跟我回警察局。」請問：這時候的 F4 可以主張下列何種權利，來保障自己的權益？

- (A)平等權
(B)參政權
(C)受益權
(D)自由權。

- () 44. 政府為了增進全體國民健康、提供醫療保健服務，於民國 83 年制定了全民健康保險法，辦理全民健康保險。請問：全民健康保險法的施行，發揮了法律的何種功能？

- (A)保護人民權利
(B)促進社會進步
(C)維護社會秩序
(D)實現世界大同。

- () 45. 在電視、廣播電臺節目中，有許多民眾會 call in 發表關於政治的一些看法，高談闊論希望他人認同，這表示人民的哪一項權利獲得充分的保障？

- (A)意見自由
(B)人身自由
(C)秘密通訊自由
(D)集會結社自由。

- () 46. 2006 年的調查發現，中國境內的「流動人口」超過 10%，已取代墨西哥與美國境，成為世界最大的人口遷移流。請問：促成現階段中國人口遷移的主因為何？

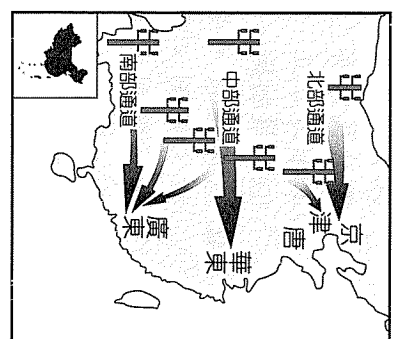
- (A)爆發疾病流行
(B)就業機會不均
(C)政府政策規定
(D)農業技術先進。

() 47. 阿貴在中國某地參觀了一種傳統建築，特徵是「高四層，樓四圍，上上下下四百間，圍中國，圍套圍，歷經滄桑三百年。」請問：這種「圍」狀的建築最可能在哪裡出現？

- (A) 東南丘陵
- (B) 華北平原
- (C) 雲貴高原
- (D) 黃土高原。

() 48. 圖(三)為中國西部大開發中的「西電東送」計畫，目標是開發西部區域的電力以供東部經濟區使用。請問：其中華中地區的「西電」最可能是何種發電方式產生的電力？

- (A) 核能發電
- (B) 長江水水力
- (C) 燃煤發電
- (D) 潮汐發電。

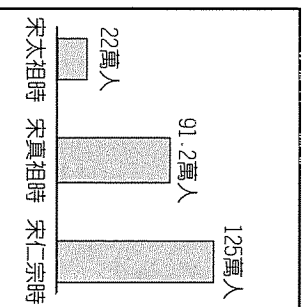


▲圖(三)

() 49. 清末一位官員提出：「君主立憲政體，君主有統治國家之權，凡立法、行政、司法皆總攬……」。上自朝廷，下至臣庶，均守欽定憲法。」請問：此意見的提出背景為何？

- (A) 自強運動時，頒布的帝制序文內容
- (B) 戊戌變法時，光緒下達的詔書內容
- (C) 八國聯軍後，頒布的新政大綱序文
- (D) 日俄戰爭後，提出的改革草案序文。

() 50. 資料(一)：為北宋軍隊人數。
資料(二)：下表為北宋禁軍人數。



| 時間 | 宋太祖 | 宋太宗 | 宋真宗 | 宋仁宗 |
|------|--------|--------|--------|--------|
| 禁軍人數 | 19.3 萬 | 35.8 萬 | 43.2 萬 | 82.6 萬 |

請問：由資料(一)判斷，當時的局勢為何？


- (A) 宋人喜歡當兵
- (B) 外患嚴重
- (C) 政府實行徵兵制
- (D) 人口過剩。

() 51. 承第50題，由資料(一)和資料(二)判斷，當時北宋的政策為何？

- (A) 重用漢人勢力
- (B) 加強藩鎮力量
- (C) 厲行徵兵制度
- (D) 集權中央。

() 52. 身為一國之民，本有義務關心國家重大議題，及擁有提出建言的權利。請問：有關下列事項中，何者具有請願的性質？

- (A) 收到罰單的小賴申請覆查
- (B) 入珍因為名字不雅申請改名
- (C) 請政府再評估翰林鄉興建垃圾場的政策
- (D) 旦旦生了小蛋蛋申請生育補助。



▲圖(三)

- () 53 為了解決未成年入背負千萬債務的社會問題，如圖(三)所示，立法機關修訂了繼承的相關規定。請問：上文敘述，有關繼承規定，訂定於哪一部法典中？
- (A)民法
(B)刑法
(C)行政法
(D)憲法。
- () 54 對自己應負擔的債務多寡有爭議時，為了確保自己的權益，我們可以採取下列哪一種法律途徑解決之？
- (A)向法院提起民事訴訟
(B)向警察機關提出告訴
(C)向行政機關提起訴願
(D)向行政法院提起行政訴訟。
- 二、題組：(55~63題)

阿猴、豬太郎和河童想結伴體驗西遊記的行程，於是利用暑假空檔，他們一起從北京出發，來到新疆火敏山下的吐魯番，請根據此行程經過的地理環境，回答第55~57題：

- () 55 阿猴等人從北京來到吐魯番所搭乘的火車路線，依序會經過哪些都市？
- (A)北京—西安—蘭州
(B)北京—連雲港—拉薩
(C)北京—包頭—西寧
(D)北京—銀川—烏魯木齊。
- () 56 吐魯番盛產葡萄，灌溉葡萄園的水源最可能來自何處？
- (A)清明時節下個不停的毛毛雨
(B)有豎井可以鑽進去的地下水道
(C)澎湃奔流的寬闊江水
(D)浩浩湯湯，橫無際涯的大湖。
- () 57 三人各自在遊記中，記錄了吐魯番的天氣，但是回家之後，卻發現內容有所出入。請問：下列哪個版本最可能是正確的？
- (A)河：雖然是夏天，這裡卻是整天都很冷
(B)豬：下了好幾天的毛毛雨，地上變得很泥濘
(C)猴：白天的氣溫竟上升到40°C，晚上卻又很涼
(D)豬：一整天都好熱，都半夜了還是維持40°C的高溫。

資料(一)：民國6年，總統黎元洪被某一督軍脅迫解散國會，國人氣憤；不久，此一督軍被重新任命之國務總理率軍擊敗，但國務總理又拒絕恢復國會，毀棄臨時約法。
國父在滬（上海）力圖起兵護法。

資料(二)：海軍總長（程璧光）率海軍南下，響應廣州召集非常國會之舉。
請根據上述史料，回答第58~60題：

- () 58 資料(一)的敘述中提及「督軍」，指的是何人？
- (A)曹錕
(B)段祺瑞
(C)袁世凱
(D)張勳。

() 59. 由資料(-)到資料(二)的歷史變化，對中國日後政局造成什麼影響？

- (A) 洪憲帝制失敗
- (B) 日侵山東
- (C) 南北分裂
- (D) 五四運動。

() 60. 引發資料(-)事件，與當時的國際局勢相關。請問：當時的國際局勢背景為何？

- (A) 第一次世界大戰期間
- (B) 召開巴黎和會之後
- (C) 正值經濟大恐慌
- (D) 爆發第二次世界大戰。

日前，消費者保護委員會揭發了毒鰻魚事件，各大報紙藉機大肆報導，促使民眾聞鰻色變，業者生意一落千丈，事後發覺政府在檢驗的過程有所疏誤。業者一氣之下，依據國家賠償法第2條規定，請求國家賠償。請問：

() 61. 上述事件中，民主政治的要素有哪些？

- (A) 民意政治、法治政治
- (B) 法治政治、責任政治
- (C) 責任政治、政黨政治
- (D) 政黨政治、民意政治。

() 62. 若有官員因此事件被處以記過與申誡的處分，則需哪一機關審議通過？

- (A) 考試院、銓敘部
- (B) 司法院、公務人員懲戒委員會
- (C) 司法院、憲法法庭
- (D) 監察院、財政委員會。

() 63. 事件發生後，哪一機關有權要求行政院院長及其相關部會首長為其業務疏失提出報告說明？

- (A) 考試院 (B) 監察院
- (C) 司法院 (D) 立法院。