

國民中學學生基本學力測驗

社會科

模擬題本

第

5
回

※測驗範圍：第4冊

※總分：80分
※測驗時間：70分

※範圍細目：

- 【地理】 中國地理區域篇
- 【歷史】 清末的內憂外患到海峽兩岸分治
- 【公民】 法律與生活

總分

80分

年 班 號 姓名：

◎請閱讀以下測驗作答說明：

測驗說明：

這是國民中學學生基本學力測驗社會科題本，題本採雙面印刷，共11頁，有63題選擇題，每題都只有一個正確或最佳的答案。

注意事項：

1. 所有試題均為四選一的選擇題，答錯不倒扣。
2. 試題中所附圖形，僅作為參考，不一定代表實際大小。
3. 可利用題本中空白部分計算，切勿在答案卡上計算。

作答方式：

1. 題本直接作答：
請依照題意從四個選項中選出一個正確的答案，填寫在題號前的括弧中。
2. 題本依照題答案卡作答：
請依照題意從四個選項中選出一個正確的答案，並用2B鉛筆在答案卡上相應的位置畫記，請務必將選黑、填滿。如果需要塗黑、塗滿。即：ABCD

以下為錯誤的畫記方式可能導致電腦無法正確判讀。

- 如：
- | | | | | |
|------------------------------------|------------------------------------|------------------------------------|------------------------------------|----------|
| <input type="radio"/> A | <input checked="" type="radio"/> B | <input type="radio"/> C | <input type="radio"/> D | 未將選項塗滿 |
| <input checked="" type="radio"/> A | <input type="radio"/> B | <input type="radio"/> C | <input type="radio"/> D | 未將選項塗黑 |
| <input type="radio"/> A | <input checked="" type="radio"/> B | <input type="radio"/> C | <input type="radio"/> D | 未擦拭乾淨 |
| <input type="radio"/> A | <input type="radio"/> B | <input type="radio"/> C | <input type="radio"/> D | 未塗出選項外 |
| <input checked="" type="radio"/> A | <input checked="" type="radio"/> B | <input checked="" type="radio"/> C | <input checked="" type="radio"/> D | 同時畫記兩個選項 |

參考配分：

- 單題：1.~46題每題1分，47.~54題每題2分
題組：55.~63題每題2分
共80分

一、單題：(1.~5.題)

() 1 「大江東去，從天府之國到魚米之鄉、水鄉澤國，看盡多少風華。這個凝聚整條流域精華的箭頭，正昂首蓄勢待發，射向全世界。」由上述判斷「大江東去」是指下列哪一河流？

- (A) 珠江
(B) 長江
(C) 黃河
(D) 松花江。

() 2 承第1題，引文中「水鄉澤國」是指下列哪一地區？

- (A) 四川盆地 (B) 鄱陽盆地
(C) 長江三角洲 (D) 珠江三角洲。

() 3 桃子老師研究某地農業條件，查閱當地氣候資料，如表(-)所示，如果桃子老師打算轉行投資該地農業生產，他必須採取下列哪一措施，以克服氣候環境帶來的難題？

▲表(-)

年度	1998	1999	2000	2001	2002	2003	2004	2005	2006	2007
年雨量(mm)	810	470	735	630	442	507	830	724	413	402
平均年雨量(mm)	619									
降雨季節分布	6、7、8月									

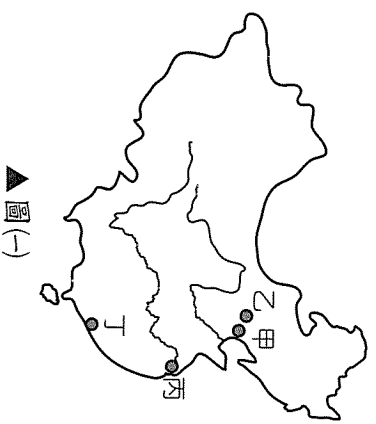
- (A) 大量使用化學肥料
(B) 興修水利排除積水
(C) 土壤翻修避免流失
(D) 儲存與調節水資源。

() 4 承第3題，桃子老師計畫投資的地點，最可能是中國哪一地方？

- (A) 華北平原
(B) 東北平原
(C) 河西走廊
(D) 雲貴高原。

() 5 桃子想到北京參加2008年奧運開幕典禮，她應該到圖(-)中哪一城市？

- (A) 甲
(B) 乙
(C) 丙
(D) 丁。



() 6 一份中國古代詔書裡提到：「以後各式公文，凡有關大英國臣民者，不得書『夷』字。」請問：這份詔書最可能出自哪一個時期？

- (A) 漢代張騫通西域
(B) 唐代天可汗世紀
(C) 宋代歲幣外交
(D) 清代鴉片戰爭後。

() 7. 大文豪雨果 (Victor Hugo) 曾說：「……將我們各大教堂的寶物集中在一起，也抵不上東方這處龐大輝煌的博物館……。我們歐洲人是文明人，在我們眼中，中國人是野蠻人，可是你看文明人對野蠻人幹了什麼？(指中國珍貴文物被洗劫流落異域)」請問：雨果批評的是哪一場戰爭？

- (A) 鴉片戰爭
(B) 英法聯軍
(C) 中法戰爭
(D) 八國聯軍。

() 8 民國 6 年，總理黎元洪被督軍團脅迫解散國會，國人大憤，孫文在上海力圖起兵護法，但缺乏經費。適有德國醫生報轉告知：「如孫公有起兵護法之決心，吾國願助資百萬。」遂有海軍南下及廣州召集非常國會之舉。上文敘述的歷史變化，對中國政局造成什麼影響？


- (A) 洪憲失敗
(B) 五四運動
(C) 南北分裂
(D) 中共崛起。

() 9 清末，一位留日的學者主張：「民主革命富於破壞，中國已有東亞病夫之名，不堪服猛劑以招危亡。英日兩國皆以君主立憲而強，可資借鏡。」依此判斷，他最可能參與下列哪一項運動？

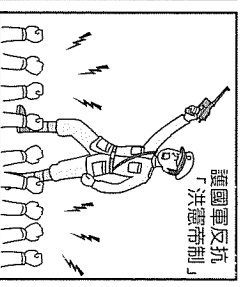
- (A) 自強運動
(B) 立憲運動
(C) 百日維新
(D) 武昌起義。

() 10 中華民國初年袁世凱推動「洪憲帝制」，在圖(二)企圖由終身總統進一步擔任皇帝，但卻有如圖(三)的「護國軍」勇敢起來反對，終於使帝制只有 82 天就結束了。這種結果顯現出下列何種意義？

- (A) 民族主義深入人心
(B) 軍閥政治逐漸衰微
(C) 民主思想日漸普及
(D) 二次革命成功落實。



▲圖(二)



▲圖(三)

() 11 2008 年西藏喇嘛紀念西藏抗暴 49 週年發起示威遊行，其間爆發衝突，中共軍警進駐西藏首府「拉薩」武力鎮壓，並驅逐外國媒體進入採訪，封鎖 Google 等網站的新聞訊息。由此可見，中共當局漠視何項人民的基本權利？

- (A) 平等權
(B) 自由權
(C) 受益權
(D) 參政權。

() 12 這是一則報導：「警方配合警政署淨化選前治安，執行全國同步大掃黑行動，一舉將多名嫌犯檢肅到案，成果豐碩。」請問：上述警方的執法行動，發揮了法律的何項功能？

- (A) 促進社會進步
(B) 維持社會秩序
(C) 保障人民權利
(D) 增進國民健康。

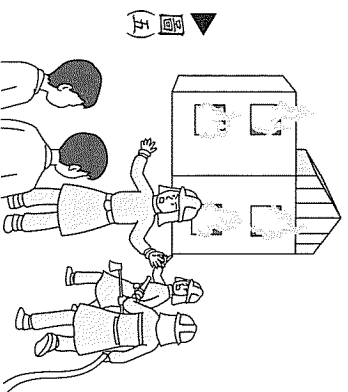
() 13 圖(四)是中央選舉委員會製作的宣傳單，根據內容判斷，我國人民可對政府政策或法令進行的公民投票來共同決定，這是行使憲法所保障的何項基本權利？

- (A) 選舉權、罷免權
(B) 罷免權、創制權
(C) 選舉權、複決權
(D) 創制權、複決權。

▲圖(四)

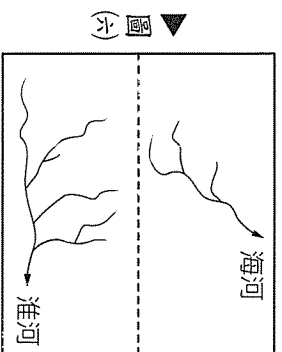
<input type="radio"/> 全國性公民投票	() 同意	第 5 案 臺灣入聯合國
	() 不同意	
<input type="radio"/>	() 同意	第 6 案 務實返聯公投
	() 不同意	

- () 14 民法是在規範私人間的權利義務關係，若違反民法所規定的義務時，則須擔負民事責任。請問：下列何種行為須承擔民事責任？
- (A) 酒後駕車遇警察臨檢，卻拒絕酒測
(B) 已訂定婚約，卻毀婚另娶他人
(C) 同居生子後落跑，不知其去向
(D) 販賣商品，卻未開立統一發票。
- () 15 火災發生時，消防人員可限制民眾不得進入火場，及侵入住戶救人、滅火，如圖(五)所示。上述作法是基於何種理由，而不構成違法行為？
- (A) 增進公共利益
(B) 避免緊急危難
(C) 維持社會秩序
(D) 防止妨礙他人自由。
- () 16 桃子前往中國旅遊，她在旅遊日記中寫到：「這裡冬季最冷月均溫 -18°C ，年雨量約 620 mm ，冬季雖然寒冷，但夏季氣溫仍可高達 20°C 。」同時還附上一張照片。請問：桃子附上的照片內容最可能是下列哪一張？
- (A) 縫製魚皮衣服與靴子的漁家
(B) 草原上牧民騎馬射箭的英姿
(C) 嚼著糝粬喝著酥油茶의 牧人
(D) 豎立在梯田上趕鳥的稻草人。
- () 17 中國歷代君主喜歡登臨山東丘陵的泰山，以示天威，孔子也曾說：「登泰山以小天下」。這是因為君王登泰山頂四下眺望，可以將下列哪一地形區一覽無遺？
- (A) 東北平原
(B) 華北平原
(C) 黃土高原
(D) 珠江三角洲。
- () 18 新疆塔里木河是當地維吾爾人日常用水的主要來源，但是塔里木河流量與長度變化極大，有時甚至只剩乾河床。這種現象和下列哪一因素最相關？
- (A) 冬季季風的強弱
(B) 山區融雪的多少
(C) 雨量變率的大小
(D) 降雨季節的長短。



▲圖(五)

- () 19 圖(六)是河南省境內海河與淮河兩流域分布示意圖。如果圖中虛線代表兩流域的分水嶺，該虛線最可能是何者？

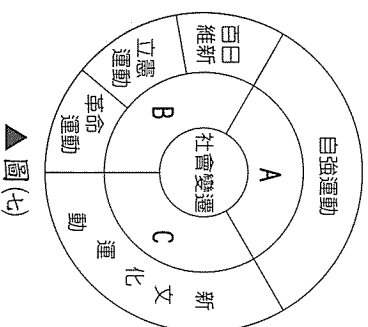


- () 20 橘子參加「白山黑水東北遊」，旅程中會出現下列哪一人文景觀？
- (A) 敦煌莫高窟——佛像文物
(B) 「天下第一關」——山海關
(C) 「西出陽關無故人」——長城遺址
(D) 「葡萄美酒夜光杯」——酒泉夜光杯工廠。

- () 21 自鴉片戰爭後，中國知識分子多主張「師夷長技」來改革中國，而不同時代的知識分子認識的西方「長技」卻有所不同。中國欲效法的西方長處，在層次上可分為器物、制度和觀念三個層次，如圖(七)所示，依時間先後順序排列，下列何者正確？

(A) A→B→C
(B) A→C→B
(C) C→B→A
(D) B→C→A。

- () 22 根據下文，這兩個運動抱持著共同的目標，主要是什麼？



一、天安門廣場是一個有歷史意義的地方，20世紀時，在此發生兩次澎湃的學生運動。

二、1919年5月，爭回中國在青島主權的運動，促使青年人的自我覺醒，以圖振興中國的政治與文化。

三、1989年在此發生一場血淋淋的屠殺，讓不少同情中共政權的人，一夕之間轉變為暴政的譴責者和人權的維護者。

(A) 德先生與賽先生
(B) 自由與民主
(C) 富國與強兵
(D) 幸福與正義。

- () 23 中國某個時代，有人極力攻擊批判儒家：「我翻開歷史一查，這歷史沒有年代，歪斜斜的每一頁上都寫著『仁義道德』幾個字。我橫豎睡不着，仔細看了半夜，才從字縫裡看出字來，滿本都寫著兩個字是『喫人』！」。當時這種全盤西化的主張相當盛行、傳播甚廣。這最可能是哪類人物的思想？

(A) 諸子百家
(B) 竹林七賢
(C) 文萃四人幫
(D) 五四健將。

- () 24 過去中國的商幫因會館制度的產生，使商業活動更為方便興盛，經營票號，創建海內最富之奇。後來因某一條約的簽訂，改變了長期以來中國與外國人之間經商習慣和組織，開始了新的貿易制度，過去舉足輕重的行商勢力遭到削弱。這個條約最可能是指何者？

(A) 南京條約
(B) 天津條約
(C) 馬關條約
(D) 辛丑和約。

- () 25 張愛玲的短篇小說《色·戒》，故事發生在抗戰期間的上海，展開一場漢奸政權與愛國青年勾心鬥角的故事。請問：20世紀中期，中國出現南京及重慶兩個國民政府背景為何？

(A) 日本在馬關條約中取得上海租借區
(B) 日本缺乏東亞營運中心，以此地為據點從事全球化
(C) 汪精衛建立偽政權，主張對日和平
(D) 日本倭寇當時以此為據點，騷擾中國東南沿海。

() 26 國內宗教團體「慈濟大愛」與「大愛無線」計程車隊，兩者讓人混淆；「慈濟大愛」因此要求經濟部撤銷對方的商標權益，「大愛無線」不服處分，提起行政訴訟，卻敗訴。請問：本案最高可訴訟到哪一級法院？

- (A) 高等法院
(B) 最高法院
(C) 高等行政法院
(D) 最高行政法院。

() 27 我國憲法規定人民有依法法律服兵役之義務，因此關於兵種、役期和兵役制度等事項，訂有兵役法來詳細規定，如圖(A)所示。由此可知，憲法具有何項特性？

- (A) 最高性
(B) 固定性
(C) 優越性
(D) 原則性。

() 28 國中三年級的小丹因為羨慕同學都有手機，一時衝動在通訊行竊取手機，事後良心不安，決定效法美國華盛頓勇於認錯的故事，連夜寫了道歉信，第二天一早親自將手機和信的觀放到通訊行的信箱。但是通訊行老闆已報案，警方仍將他移送法辦。請問：以法律的觀點分析，下列敘述何者正確？

- (A) 14歲以下者不罰，故可免除小丹刑責
(B) 知錯能改善莫大焉，法官將無罪開釋
(C) 竊盜是告訴乃論罪，可免其刑事責任
(D) 依「罪刑法定原則」，其行為已違法。

() 29 小岑看到這家服飾店招牌，如圖(B)所示，開心地衝進店內選購衣服。回家後發現所買的裙子拉鏈故障，她向店主要求更換，店主卻置之不理。請問：小岑可透過下列何種法律途徑來保障自己的權益？


- (A) 訴願
(B) 民事訴訟
(C) 刑事訴訟
(D) 行政訴訟。

() 30 阿志和阿勇兩人在校是死黨，阿志忘了今天是女友生日，急忙和阿勇兩人(甲)翻牆出校搭公車買禮物，沿途在(乙)公車座椅塗鴉並恣意吼叫，(丙)買了禮物後搭車返校，一下車就(丁)直接穿越馬路，衝進校門。請問：上述各項行為中，哪一項違反社會秩序維護法？

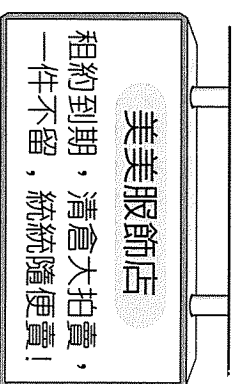
- (A) (甲)
(B) (乙)
(C) (丙)
(D) (丁)。

() 31 哈爾濱大學針對「三江平原產業發展與環境影響」，舉辦一場學術研討會，下列哪一議題可能是會中討論重點？

- (A) 當地溼地的生態環境保育
(B) 針葉林的開發與保育
(C) 動力資源衰竭的替代方案
(D) 灌溉水源的開發與利用。



▲圖(A)



▲圖(B)

- () 32 阿妙老師介紹完某一地理區後，請同學針對該地理區設計一份主題學習單。下列是四位同學擬定設計的主題：(甲)沉降谷灣探察(乙)「地上磨菇」土樓新體驗(丙)壯族生話全紀錄(丁)引領風潮經濟特區。請問：阿妙老師講解的地理區應為何地？

(A)華南地區
(B)華中地區
(C)東北地區
(D)西北地區。

- () 33 「海南島種植橡膠已有近百年歷史，是中國熱帶作物主要栽培區。」海南島具有此項生產潛力與下列哪一地理特徵有密切關連性？

(A)四周環海且環境少汙染
(B)屬暖溼的熱帶季風氣候
(C)多海拔1,000公尺左右的山地
(D)是少數民族黎族聚居地。

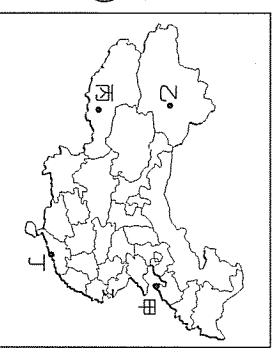
- () 34 青藏地區的居民以農牧維生，青稞為主要糧作，畜牧以山牧季移為主。這種經濟活動反映出當地地理環境具有哪一項特色？

(A)地勢高峻起伏明顯 (B)居民宗教信仰虔誠
(C)多元民族文化色彩 (D)土壤肥沃生長季長。

- () 35 根據圖(十)中四個城市的位置分布判斷，下列有關四城市特點的敘述何者正確？

(A)甲：港闊水深，是中國西北部貨物總吞吐口
(B)乙：多民族聚集，市街充滿東歐基督教色彩
(C)丙：日光城，城內布達拉宮是—藏人信仰中心
(D)丁：夏季水患、冬季結冰，港口業務倚賴輔助港。


▲圖(十)



- () 36 圖(十一)是清末諷喻中國處境的漫畫：英(虎)、美(鷹)、俄(熊)、法(蛙)、德(蛇)、日(太陽)等包圍中國，皆想在中國身上分一杯羹，象徵列強企圖瓜分中國的野心。此畫所描述的是中國近代史上哪一時期？

(A)清道光年間
(B)清咸豐年間
(C)清同治年間
(D)清光緒年間。

▲圖(十一)



- () 37 學者指出：某一史事發生時，敵軍進攻北京，地方督撫自行與各國領事議定「東南互保」辦法。此一事件使中央權力減弱，地方權力增強，政局出現外重內輕的情形。所謂「此一事件」最可能是指下列何者？

(A)英法聯軍
(B)鴉片戰爭
(C)太平天國之亂
(D)八國聯軍。

- () 38 九一八事變後，一份請願書中說到：「皇上年紀很小就登基，適值革命軍興，因為不忍兵禍才決定退位。」今日幸有「大日本帝國仗義興師，所以公議制訂年號，建立新邦。」日本率先承認。請問：「建立新邦」是指哪一個國家？

(A)洪憲帝制
(B)偽滿洲國
(C)護法軍政府
(D)中華蘇維埃共和國臨時中央政府。

() 39. 1990 年代，一位臺灣作家在一種逝去的文學文章中說：「那邊要統，這邊要獨。『漢』『賊』早已兩立，『敵』『我』正在言歡。40 年前的神聖使命，成了 40 年後의 今古奇觀。」此一「逝去的文學」指的是反共文學。請問：「反共」文學的出現與下列哪一史事最有關連？

- (A) 日本總督府在臺灣的皇民化運動
- (B) 「臺灣文化協會」提倡新文化運動
- (C) 中共發動文化大革命
- (D) 國共鬥爭中華民國政府遷臺。

() 40. 下文為民國 13 年的某次會議紀錄，應該是說明當年的哪一事件？

一、孫文大元帥令：聘任鮑羅庭為革命委員會顧問，遇本會長缺席時得有表決權。

二、李大釗等加入國民黨的聯合聲明：本人原為第三國際共產黨黨員，此次偕同諸同志加入本黨（國民黨），是為服從本黨主義，遵守本黨黨章，參加革命事業，絕對不是想把國民黨化為共產黨，乃是以個人的第三國際共產黨資格加入國民黨，從事國民的革命事業，並望諸先輩指導一切。

- (A) 聯俄容共
- (B) 南北議和
- (C) 北伐統一
- (D) 抗日民族統一戰線。

() 41. 表(二)是我國 2003~2007 年各縣市新移民子女就讀國小學人數的統計表，根據內容判斷，這些新移民子女的何項權益受到保障？

年度	2003年	2004年	2005年	2006年	2007年
就讀人數	30,040	46,411	60,258	80,166	103,600

▲表(二)

- (A) 平等權
- (B) 自由權
- (C) 受益權
- (D) 參政權。

() 42. 假冒檢察官身分的李男向陳姓老翁詐騙 80 萬元，得手後逃逸不知去向。陳姓老翁憤而向地方法院提起訴訟，請求依法判處李男刑罰。請問：陳姓老翁的行為，在刑事訴訟上稱為什麼？

- (A) 上訴
- (B) 公訴
- (C) 自訴
- (D) 告訴。

() 43. 即將新婚的李先生向陳太太購買一棟房屋作為新居，沒想到錢付給陳太太後，她卻遲遲不交屋。請問：李先生可以採取下列何種方式確保自己的權益？

- (A) 向警察機關提起告訴
- (B) 向法院提起民事訴訟
- (C) 向行政機關提起訴願
- (D) 向行政法院提起行政訴訟。

選項	違法行為
甲	轉寄藝人的清涼玉照
乙	下載並燒錄流行歌曲
丙	將他人照片移花接木
丁	盜取線上遊戲的寶物

▲表(三)

() 44 交遊廣闊的小倫一向秉持著「好東西要與好朋友分享」的原則。請問：表(三)小倫的行為中，哪一項會違反著作權法？

- (A) 甲
(B) 乙
(C) 丙
(D) 丁。

() 45 家境清寒的小珍最近出手闊綽，不再為升高中的學費苦惱，似乎也不愁沒錢花用，經導師明察暗訪後，得知小珍放學後在 KTV 酒店打工，陪客人喝酒、從事性交易。請問：酒店業者將被依何種法律處罰？

- (A) 刑法
(B) 勞動基準法
(C) 少年事件處理法
(D) 兒童及少年性交易防制條例。

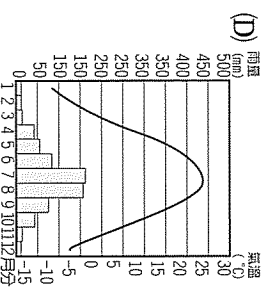
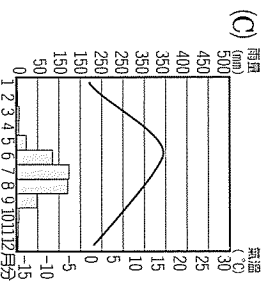
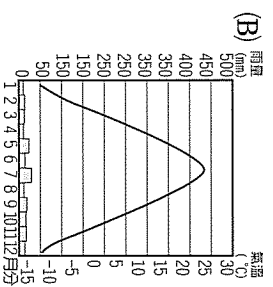
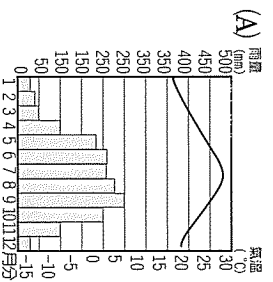

() 46 「2006 年世界百大貨櫃港口的排名中，香港以 2,350 萬 TEU，位居第二位，較去年成長 4.1%。」香港蟬聯世界三大港之一，也是世界著名「轉口港」，其發展條件除了具有優良天然港灣，還包括下列哪一項因素？(附注：TEU 是計算貨櫃容量的單位，一 TEU 是一個 20 呎的貨櫃)

- (A) 擁有豐富礦產資源
(B) 位世界航線輻輳點
(C) 是僑鄉，東南亞僑資匯入
(D) 英語環境，是國際大都市。

() 47 深圳經濟特區成立近 28 年以來，工業化、都市化、現代化迅速推進。由當年邊陲小鎮發展成中國東南沿海地區極為重要的貿易據點。請問：促使深圳脫胎換骨的條件不包括下列哪一項？

- (A) 最近臺灣，吸引大量臺商
(B) 人口眾多，勞工工資低廉
(C) 優惠政策，引進外匯與外資
(D) 緊臨香港，資訊取得容易。

() 48 圖(±)是中國境內某地傳統居住型態。住屋最大特色是拆建迅速、攜帶方便，利於經常遷移的生活方式。請問：該種生活方式的氣候環境與下列哪一氣候圖最符合？



() 49. 歷史上有一時期，政府曾查禁多種書刊，包括自由中國、亞細亞月刊、美麗島等，理由如：「詆毀本黨及政府」、「言論反動」、「宣傳臺獨」等。這種情形最可能出現在哪一時期？

- (A) 臺灣——皇民化時期
- (B) 中國——新文化運動時期
- (C) 臺灣——戒嚴時期
- (D) 中國——文化大革命時期。

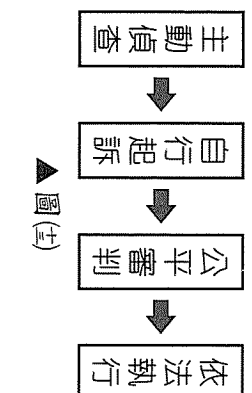
() 50. 清末，內憂外患頻仍，政府為因應變局，進行多次改革，其中包括廢除科舉、興辦新式學堂、編練新軍、改總理各國事務衙門為外務部等措施。此改革實施的背景為何？

- (A) 鴉片戰爭後，朝野提出「師夷之長技以制夷」
- (B) 英法聯軍之役後推行的自強運動
- (C) 臺灣建省後，劉銘傳在臺灣的建設
- (D) 庚子事變後，慈禧採行新政。

() 51. 2008年，臺北故宮博物院文物將遠赴維也納，參加藝術史博物館舉辦的「臺北故宮博物院精品文物展」。為避免中共打國際法官官司，引發文物歸屬權爭執，造成文物被扣留，因此故宮博物院文物出國展覽時，展出國都必須先制定「司法豁免」的法律保證。當初國民政府撤退到臺灣時，把2,972箱北京故宮博物院國寶及重要文物檔案移運臺灣，下列哪一史事影響上述遷移的決策？

- (A) 第二次世界大戰
- (B) 二二八事件
- (C) 國共內戰
- (D) 韓戰。

() 52. 公民課時，老師以圖(±)的海報輔助，說明我國司法程序。請問：老師主要在說明下列哪一概念？



- (A) 聲請調解
- (B) 民事訴訟
- (C) 刑事訴訟
- (D) 行政訴訟。

() 53. 阿成因為超速駕車釀成車禍，事主緊急報警處理，阿成雖當場和對方達成和解，但卻因持哥哥駕照，被警方識破，以偽造文書罪嫌被移送法辦，以下敘述何者正確？

- (A) 雙方私下和解不具法律效力
- (B) 必須由警方進行和解才有效
- (C) 非告訴乃論罪和解仍會被起訴
- (D) 由調解委員會進行調解才有效。

() 54. 美髮師小美，發現顧客遺落一支價值數萬元的手機，心生貪念將手機占為己有，被害人向警方報案，警方循線逮捕小美，依侵占遺失物罪移送法辦。請問：本案最高可上訴至哪一級法院？

- (A) 地方法院
- (B) 高等法院
- (C) 最高法院
- (D) 最高行政法院。

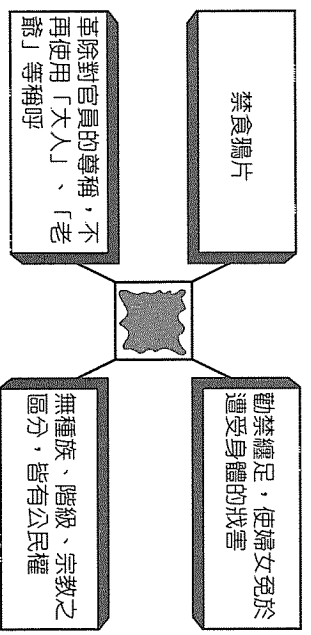
二、題組：(55～63題)

「氣候冬暖夏熱，雨量適中；紫紅色的土壤非常肥沃。自古以來水利設施完善，土地利用精密，物產豐饒，兼有南方與北方的作物。」請根據上文敘述，回答第55～57題：

- () 55. 上述文字所描述的景觀，最符合下列哪一地區？
(A) 三江平原
(B) 珠江三角洲
(C) 河西走廊
(D) 四川盆地。
- () 56. 文中所述「水利設施」應為何者？
(A) 三峽大壩
(B) 坎兒井
(C) 都江堰
(D) 京杭大運河。
- () 57. 該地區兼具南北作物，但農田裡最不可能出現哪種作物？
(A) 甜菜 (B) 稻米
(C) 甘蔗 (D) 茶葉。

許多今日我們視為理所當然的觀念或制度，如兩性平等、民主與法治等，都是過去政治與社會運動長期累積的成果，這些政治與社會運動的顯著功能之一，就是促成社會變遷。請根據上文敘述，回答第58～60題：

- () 58. 有一個時期，政府明令改革「舊染汙俗」，拆毀祠廟，不准拜神佛，不准祀祖先；視孔孟諸子百家為「妖書邪說」，不准尊孔孟；社會上的纏足、買妾、買娼、販賣奴婢、鴉片等，也都被明令禁止。請問：這種改革最可能發生在何時？
(A) 民國初年時
(B) 太平天國時
(C) 十年建設時
(D) 日本治臺時。
- () 59. 圖(出)是邵文在一本歷史書中看到的內容：1912年中華民國臨時政府成立不久，頒布了一連串的命令以展現新國家新氣象。由於墨漬遮蔽了若干文字，請協助她判斷，下列何者最可能是遮蔽處的內容？



▲圖(出)

- () 60. 「北京紫禁城是明、清兩朝帝王權力的核心所在，也是中國古代君主獨裁體制的最佳象徵。直到推翻滿清，建立民主共和國，中國的政治環境才有前所未有的大幅度改變。」請問：從上段文字的內容推論，這段敘述的主題應該與下列何者最有關係？
(A) 法律與正義
(B) 國體與政體
(C) 族群與歷史
(D) 政黨與民意。

一對分別就讀高中、小學的堂兄妹自拍虐狗影片，上傳到部落格供人點閱，引起網友公憤痛罵，並希望家長為管教失當出面道歉，這對堂兄妹也要接受動物保護法的制裁。請根據上文敘述，回答第61～63題：

- () 61 為了避免此類虐待動物的事件一再發生，我們應該善用下列何者，有效導正人們的行為？
- (A) 宗教和倫理
 - (B) 法律和道德
 - (C) 倫理和宗教
 - (D) 宗教和輿論。
- () 62 根據年齡判斷這對分別就讀高中、小學的堂兄妹，在法律上的行為能力與責任能力為何？
- (A) 屬限制行為能力人，無法律責任
 - (B) 屬限制責任能力人，得減輕刑責
 - (C) 屬日常生活瑣事，無關法定代理人責任
 - (D) 屬限制責任能力人，法定代理人須連帶受罰。
- () 63 這對堂兄妹雖然後來出面道歉，但仍要接受動物保護法的制裁。請問：他們最可能受到何種處罰？
- (A) 拘役
 - (B) 罰金
 - (C) 罰鍰
 - (D) 沒收。