

國民中學學生基本學力測驗

社會科

模擬題本

第

7



※測驗範圍：1～4冊

※總分：80分
※測驗時間：70分

※範圍細目：

【地理】臺灣地理、中國地理複習
【歷史】臺灣歷史、中國歷史複習
【公民】個人、社會、政治、法律
與生活複習

總分

80分

年 班 號 姓名：

◎請閱讀以下測驗作答說明：

測驗說明：

這是國民中學學生基本學力測驗社會科題本，題本採雙面印刷，共11頁，有63題選擇題，每題都只有一個正確或最佳的答案。

注意事項：

1. 所有試題均為四選一的選擇題，答錯不倒扣。
2. 試題中所附圖形，僅作為參考，不一定代表實際大小。
3. 可利用題本中空白部分計算，切勿在答案卡上計算。

作答方式：

1. 題本直接作答：
請依照題意從四個選項中選出一個正確的答案，填寫在題號前的括弧中。
2. 也可搭配答案卡作答：
請依照題意從四個選項中選出一個正確的答案，並用2B鉛筆在答案卡上相應的位置畫記，請務必將選黑、填滿。如果需要塗黑、塗滿，請使用橡皮擦擦乾淨，重新塗黑答案。若答案為B，則將Ⓐ●Ⓑ●Ⓒ●Ⓓ

以下為錯誤的畫記方式可能導致電腦無法正確判讀。

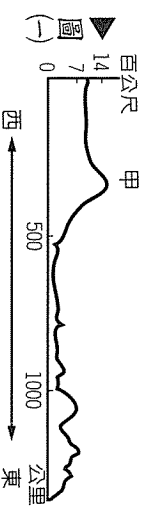
如：
Ⓐ● Ⓑ● Ⓒ● Ⓓ● 未將選項塗滿
Ⓐ○ Ⓑ○ Ⓒ○ Ⓓ○ 未將選項塗黑
Ⓐ⊙ Ⓑ⊙ Ⓒ⊙ Ⓓ⊙ 未擦拭乾淨
Ⓐ⊖ Ⓑ⊖ Ⓒ⊖ Ⓓ⊖ 未塗出選項外
Ⓐ⊕ Ⓑ⊕ Ⓒ⊕ Ⓓ⊕ 同時畫記兩個選項

參考配分：

單題：1.～46題每題1分，47.～55題每題2分
題組：56.～63題每題2分
共80分

一、單題：(1.~5題)

- () 1 一地諺語常是當地居民歷經數代生活經驗所累積的智慧結晶。請問：下列地理諺語所描述的地區何者正確？
 (A) 「上有天堂，下有蘇杭」——珠江三角洲
 (B) 「一山有四季，十里不同天」——黃土高原
 (C) 「大雨大災，無雨旱災」——華北平原
 (D) 「人家半鑿山腰住，車馬多從頭頂過」——青藏高原。
- () 2 阿拉丁乘著飛毯到青藏高原，發現當地天空碧藍雲量少，太陽輻射強，日照非常充足。這是因為青藏高原哪一環境特色所致？
 (A) 緯度較低
 (B) 地勢特別高
 (C) 距海較遠
 (D) 位背風側。

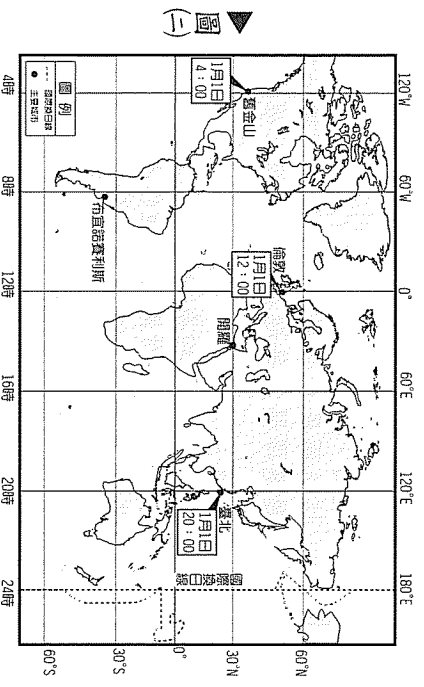


- () 3 圖(一)是東北地區的東西向橫切地形剖面示意圖，圖中甲山脈的東西側地形分別為何？

- (A) 東北平原、內蒙古高原
 (B) 黃土高原、華北平原
 (C) 內蒙古高原、寧夏平原
 (D) 黃土高原、河西走廊。

- () 4 圖(二)是全球時區分布圖，圖中資料顯示東邊的時間比西邊快，這是什麼原因造成的時差現象？

- (A) 地球軸由西向東自轉
 (B) 地軸向東傾斜 23.5°
 (C) 東邊日照時間較長
 (D) 東邊陽光入射角較大。



- () 5 承第4題，根據圖中資料顯示，倫敦早上8點時，北京的小朋友最可能正在做什麼？
 (A) 早上，吃早餐準備上學
 (B) 中午，休息吃午餐
 (C) 下午，吃完點心準備放學
 (D) 晚上，刷牙、上床睡覺。
- () 6 乾隆末年，一份資料：「此族群渡臺時間較晚，故聚居於西部丘陵、臺地或近山的平原，由於生活困苦，因此培養出刻苦耐勞的儉樸精神。」根據上述內容判斷，這是指哪一族群？
 (A) 外省人
 (B) 客家人
 (C) 原住民
 (D) 閩南人。

- () 7. 1860年代以後，臺灣政治經濟重心逐漸由南部轉移至北部，其主要原因為何？
 (A) 南部米糖生產下降，造成區域發展落後
 (B) 北部為茶與樟腦的加工出口區，經濟發展快速
 (C) 南部降雨分布不均與地層下陷，迫使人口外移
 (D) 縱貫鐵路通車，南北部地位消長。

() 8. 根據下列清初渡臺禁令資料敘述，清廷頒布此一禁令的動機，不包括下列何者？

一、渡臺必先在原籍地申請渡航許可證，並經臺廈兵備道及海防同知的驗可，方可渡臺。
二、渡臺者一律不准攜家帶眷，既渡臺者，也不准招致家眷。
三、粵地屢為海盜淵藪，不准粵地人民渡臺。

() 9. 表(一)是臺灣在某一時期的對外貿易統計數字的變化。根據表中的資訊可以獲得下列哪一項結論？

年代	輸出	輸入	合計	指數
1896	11,396	8,631	20,027	100
1924	42,567	46,424	88,991	444
1925	47,966	56,489	104,455	522
1926	49,315	62,008	111,323	556

(A)解除海禁政策，有助於清廷稅收增加
(B)開港通商，臺灣對外貿易由入超轉變為出超
(C)殖民體制的確立，臺灣成為工業化社會
(D)鐵路港口的興建，導致貿易額驟增。

() 10. 一位臺灣士紳寫了一副對聯：「四百餘里鯤鯓已去復返；五十一年婢僕垂死重生。」這位士紳寫作的背景為下列何者？


(A)臺灣民主國成立之際，慶祝臺灣脫離清朝統治
(B)「臺灣議會設置請願運動」成功，實施地方自治
(C)第二次世界大戰，日本戰敗，臺灣回歸中華民國
(D)臺灣終止動員戡亂時期。

() 11. 依家庭暴力防治法規定，若家庭成員間發生身體或精神不法侵害時，被害人或親友、檢察官或各縣市主管機關等，得向下列何者聲請保護令，以保護被害人？

(A)警察
(B)法院
(C)社會局
(D)縣市政府。

() 12. 小翰非常關心國內政治，對於總統大選的電視辯論會更準時收看，圖(三)是某次辯論會的部分內容。根據內容判斷，兩位候選人不約而同提到了民主政治的什麼特色？

(A)民意政治、政黨政治
(B)責任政治、政黨政治
(C)法治政治、責任政治
(D)民意政治、法治政治。



- () 13. 下列是行政院各部會首長行政會報中的報告內容：
農委會主委：「為了防治禽流感，禁止活禽販賣及屠宰。」
衛生署署長：「由於水痘疫苗缺货，取消幼兒免費施打。」
經濟部部長：「國際油價持續攀升，中油油價凍漲至520。」
 請問：上述官員的政策推行，最後仍須受到何者的監督與質詢？
 (A)總統 (B)監察委員 (C)立法委員 (D)行政院院長。

- () 14. 表(一)是翰林國去年發放重要社會福利津貼的統計結果，根據內容判斷，這是政府實施的何項社會福利措施？

表(一)

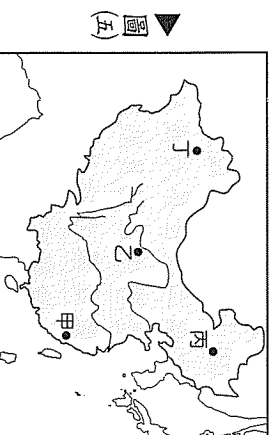
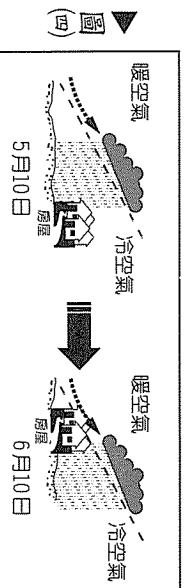
項目	身心障礙者生活補助費	中低收入老人生活津貼	低收入戶生活補助	中低收入老人特別照顧津貼
補助標準	4,000元	6,000元	11,625元	5,000元
經費(億元)	141.30	87.00	41.40	0.30

- ▲表(二)
- (A)福利服務
 (B)社會救助
 (C)社會保險
 (D)國民就業。

- () 15. 依照我國法律的種類，可將法律責任分為民事責任、刑事責任與行政責任三種。但是一個違法或違規行為所擔負的法律責任，並不一定只有一種責任，例如有時行政責任亦須負起民事責任。請問：下列敘述何者正確？

- (A)阿丁電話交友遭美眉哄騙失金
 (B)阿榮上課時以言詞批評恐龍妹
 (C)阿林打破計程車車窗竊取零錢
 (D)阿達違規超車時不慎擦撞前方車輛。

- () 16. 圖(四)是某一天氣型態示意圖，該種天氣型態最可能出現在圖(五)中的哪一城市？



- (A)甲 (B)乙
 (C)丙 (D)丁。

- () 17. 「江作青羅帶，山如碧玉簪」，「桂林山水甲天下，陽朔山水甲桂林」，都是讚嘆廣西灘江沿岸的優美山水景觀。請問：該地特殊地形景觀是下列哪一地質營力作用的結果？

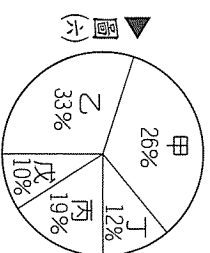
- (A)海水堆積
 (B)冰河侵蝕
 (C)火山作用
 (D)雨水溶蝕。

- () 18. 承第17題，該地質作用在當地特別盛行是因廣西地區具有下列何項地理特徵？

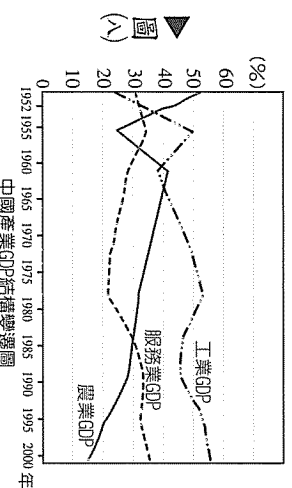
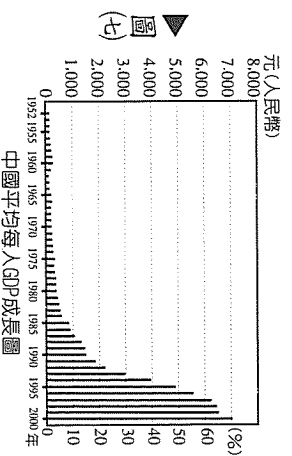
- (A)氣候溫暖雨量多
 (B)地表崎嶇起伏大
 (C)距海較近溫差小
 (D)晴日多日照時間長。

() 19. 圖(六)是中國五大地形所占面積比例圖，圖中甲、乙所代表地形依序分別為何？

- (A)高原、山地
(B)山地、平原
(C)盆地、丘陵
(D)盆地、高原。



() 20. 比較圖(七)與圖(八)，阿妙老師請四位同學發表看法。請問：哪一位同學的說法是正確的？



- (A)風聞：第二級產業人口占中國人口最大比例
(B)小新：GDP快速增加與中國積極發展工業有關
(C)妮妮：設立經濟特區可以解決第一級產業產值偏低的困境
(D)小葵：無法判斷那一產業促使GDP快速成長。
- () 21. 閱讀下列資料，何者為正確的解釋？

資料(一)：「臺灣自古不屬中國。先帝神武遠屆，拓入版圖。先帝末年，逆賊朱一貴倡亂攻陷府城及全臺各地，諸臣夙稟方略，士卒感戴教養之恩，七日克服，破賊數萬。」

資料(二)：乾隆53年諭：「此次臺灣剿捕逆匪，該處義民隨同官兵打仗殺賊，甚為出力；業經降旨將廣東、泉州等莊賞給『褒忠』、『旌義』里名，用示鼓勵。」

- (A)資料(一)所提及的「先帝」是指乾隆皇帝
(B)資料(一)朱一貴起兵抗清，曾攻陷「府城」是指現今臺北市
(C)資料(二)乾隆皇帝所提及的「逆匪」是指洪秀全
(D)兩則資料的衝突性質皆屬於官逼民反。
- () 22. 1895年11月8日，臺灣總督樺山資紀向日本東京大本營報告「全臺悉乎平定」，隨即在臺灣展開統治。「全臺悉乎平定」是根據何事所作的結論？
- (A)牡丹社事件落幕，清廷承認日本出兵臺灣是保民義舉
(B)劉永福棄守內渡，臺灣民主國崩潰
(C)莫那魯道死亡，霧社事件平定
(D)皇民化運動奏效，「臺人歸順」。
- () 23. 在近代史上，有一份文件內容摘錄如下，這份文件的主角最可能是何人？

一、他是臺灣民主先驅，創立臺灣文化協會。
二、有「臺灣孫中山」之稱，發表「臨床講義」。
三、請願設置臺灣議會，企圖爭取立法權。
四、近日以其名為北宜高速公路命名。

- (A)林獻堂
(B)蔣渭水
(C)丘逢甲
(D)李登輝。



▲圖(九)

- () 24. 中國有一宗教，淵源於古代巫祝的傳統與神仙方術，因天災疾疫流行，社會動亂頻仍，信徒日眾；宣揚長生不死的思想，得到皇帝大力的提倡，影響漸廣。圖(九)是該教的「陰陽和合圖」，象徵陰陽調和順應自然，今日許多人在公園打太極拳、練氣功，也與這種宗教有關。這是指哪一宗教？

(A)道教 (B)佛教
(C)祆教 (D)拜上帝會。

- () 25. 「它是古代吳、東晉、宋、齊、梁、陳當時的首都，依著巍巍鍾山，是龍蟠虎踞的石頭城，又臨近長江。」請問：它是位於圖(十)中哪一城市？

(A)甲
(B)乙
(C)丙
(D)丁。



▲圖(十)

- () 26. 志文為了中風的愛妻，辭去工作，在家全心照料她。他說：「老婆是我最愛的人，現在生病了，當然要全心照顧她。」夫妻恩愛之情令人感動。由上述可知，家庭提供了什麼功能？

(A)生育
(B)經濟
(C)教育

(D)保護與照顧。

- () 27. 大學畢業多年後的同學會，幾位昔日同窗好友聊起近況，下列哪一位所參與的團體屬於關係取向的社會團體？

(A)小健：「我加入牙醫師公會，不但捐錢也舉辦義診」
(B)小剛：「我擔任校友會的會長，經常舉辦聯誼活動」
(C)小愛：「我是慈濟基金會的志工，定期到各地服務」
(D)小美：「我是美容美髮協會的會長，時常出國觀摩」。

- () 28. 上公民課時，老師引用釋憲案第443號來說明「限制役男出境之規定是否違憲？」(如圖(十一))。請問：下列敘述何者正確？

(A)負責解釋憲法的大法官隸屬於監察院
(B)修改憲法之提案及複決權歸屬立法院
(C)行政院發布之徵兵規則等行政命令
(D)命令及憲法之制定，若抵觸法律則無效。

▲圖(十一)

「限制役男出境係對人民居住遷徙自由之重大限制，兵役法及兵役法施行法均未設規定，亦未明確授權以命令定之。行政院發布之徵兵規則，委由內政部訂定役男出境處理辦法，欠缺法律授權之依據，該辦法第8條應自本解釋公布日起至遲於屆滿六個月時，失其效力。」

(資料來源：釋字第443號文)

- () 29. 這是一則報導：「科索沃日前宣布脫離塞爾維亞獨立，阿爾巴尼亞裔領袖致函192個國家，尋求正式承認。美國發表書面聲明，表示9年前即交由聯合國託管的科索沃，已建立自己的民主體制，宣布正式承認科索沃為一主權獨立國家。」請問：在聯合國託管的期間，科索沃仍不屬於完整的國家，是因為它還缺少國家的哪些構成要素？


(A)人民、主權
(B)主權、政府
(C)政府、領土
(D)領土、人民。

- () 30. 安國是義黨推出的候選人，因選情告急，希望能激起選民的熱情，踴躍投他一票，特派宣傳車在大街小巷穿梭！如圖(土)所示。請問：上述做法凸顯了政黨的何項功能？

(A) 教育民眾
(B) 動員民眾
(C) 服務選民
(D) 組織政府。

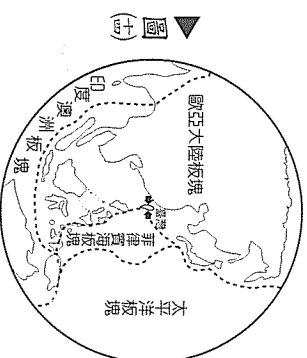
- () 31. 桃子老師將班上學生座位表列出如圖(土)所示，同時請四位小朋友描述自己在教室的位置。請問：誰的敘述是正確的？

(A) 瑞琪：我的西南方是小明
(B) 小明：我在第2行，第B列
(C) 淑惠：雅倫在我的北方
(D) 世傑：第B行第3列就是我。



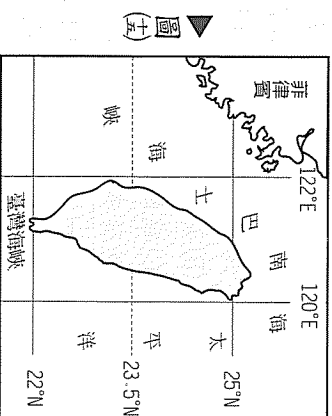
- () 32. 仔細研讀圖(土)，下列有關臺灣地理現象的敘述，何者與圖中所示臺灣「位置」特徵密切相關？

(A) 平原狹小且海岸線平直
(B) 居民以稻米為主要糧食
(C) 主要山脈南北縱貫全島
(D) 西部平原是渡海來臺移民最早登陸地。



- () 33. 糊塗的柚子繪製了一張地圖(如圖(土))，表示臺灣地理位置，細心的橘子發現柚子的地圖錯誤很多，僅有一處是正確的。請問：下列哪一項是正確的？

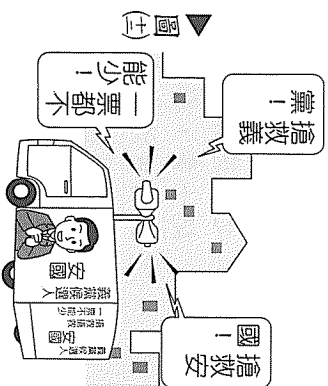
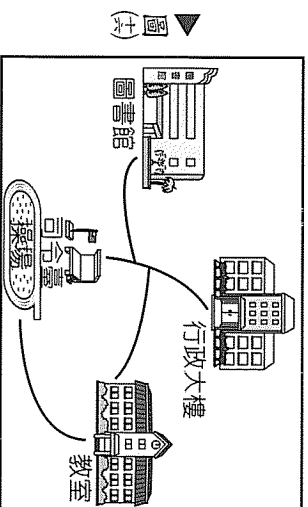
(A) 經度位置
(B) 緯度位置
(C) 鄰國位置
(D) 海域名稱。



- () 34. 阿奇關心地方事務，認為為民服務應從地方基層做起，因此打算投入本屆「鄉鎮市長」選舉。下列哪一地區最可能是阿奇投入選戰的地方？

(A) 臺北市
(B) 基隆市
(C) 大里市
(D) 臺中市。

- () 35. 阿妙今年就讀國一，每次升旗是她最痛苦的時候，不但要在操場乖乖站好，還得忍受刺眼的陽光照射，因此圖書館是她最喜歡的外讀地方，圖(土)是阿妙學校的配置圖。請問：阿妙利用短暫下課時間到圖書館借書，需朝教室哪一方向前進？



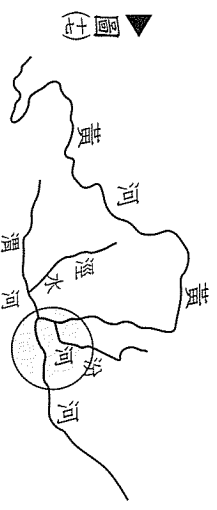
(A) 西南
(B) 東南
(C) 西北
(D) 東北。

() 36 「威尼斯商人馬可波羅年輕時隨家人來到中國，他因熟悉漢語，擅於經商，很快地在宮廷中主掌財政，握有經濟大權。留華 18 年，曾出使各地，後來藉著護送元世祖之女遠嫁伊兒汗國的機會回國，他口述自己在東方的經歷與見聞，完成馬可波羅遊記一書，影響深遠。」閱讀上文資料，下列何者是正確的解釋？

- (A) 馬可波羅來華時，正值「天可汗」時代
 (B) 馬可波羅見到當時中國皇帝的「都城」是長安
 (C) 蒙古西征建立四大汗國，因此元世祖之女遠嫁伊兒汗國
 (D) 馬可波羅遊記一書促成十字軍東征。
 () 37 表(三)是依某一概念所整理出的表格，若依相同概念填入第四組內容，下列何者最適宜？

關係	
1	漢武帝—經營西域
2	唐太宗—天可汗
3	成吉思汗—蒙古西征
4	？

▲表(三)



() 38 1959 年，考古學家在河南省偃師縣挖掘出此遺址，如圖(七)所示。此文化屬於黃河文明，時間大約在西元前 2100~1800 年之間，緊接龍山文化之後，在商代之前，有宮殿模型及青銅鑄造的兵器和禮器。請問：此遺址應是下列何者？

- (A) 仰韶遺址
 (B) 殷墟遺址
 (C) 二里頭遺址
 (D) 大盩厔遺址。

() 39 近代中國雖不斷遭受帝國主義侵略，但並沒有像印度一樣，全國都變成了殖民地。這與下列何者最有關係？

- (A) 蘇俄成立第三國際，積極在亞洲實踐共產主義
 (B) 美國主張門戶開放政策，保全中國領土及主權完整
 (C) 威爾遜提出「十四點和平計畫」，希望尊重民族自決
 (D) 日本提倡「大東亞共榮圈」，帶領亞洲抵抗侵略。

() 40 有一地區的農民因為受到時代的影響，改變了幾世紀以來的耕作方式，相信「人有多大的膽子，土地就有多大的產量。」宣傳「肥豬像大象，就是鼻子短，全社殺一口，足夠吃半年。」但收成並不如預期，不久饑荒開始了。這種情況最可能在哪一事件中發生？

- (A) 中國農工業「大躍進」
 (B) 中華民國在臺灣的土地改革
 (C) 日治臺灣的皇民化運動
 (D) 太平天國實施「天朝田畝制度」。

() 41 文智前往聆聽國際大師彼得·聖吉 (Peter Senge) 的一場演講，他以第五項修練一書和學習組織理論享譽國際。圖(六)是文智摘錄演講精華內容所做的筆記，這一段話最足以表現下列哪一概念？

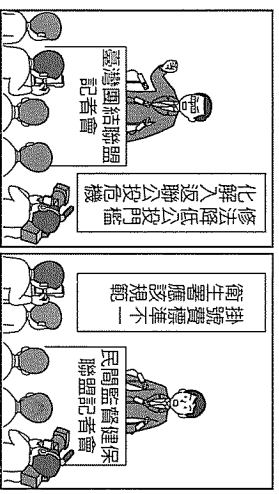
▲圖(六)

對每個人來說——不管你身在世界的何方都無一例外，人生就是不斷的學習過程……。

- (A) 多元文化 (B) 菁英教育
 (C) 社會規範 (D) 終身學習。

- 報告重點**
- 臺北市智慧型交通管理
 - 基隆市田寮河汙染整治
 - 臺南市關安南區道路網
 - 高雄市紅線捷運已通車

▲圖九



▲圖三

根據記者會主題判斷，關於「臺灣團結聯盟」與「民間監督健保聯盟」的敘述（如圖三），下列何者正確？

(A)這兩個團體皆屬於利益團體
 (B)其主要目的為贏得執政機會
 (C)前者不可作為政府與人民溝通橋樑
 (D)後者不可提名候選人參加選舉。

() 44 家住高雄市的正瑜今年 33 歲，對政治有濃厚的興趣，平日亦熱心公眾事務，因此想出來競選以服務人羣。請問：依我國現行法規來看，正瑜可參選下列哪些項目？

- (A)總統、立法委員
 (B)總統、高雄市長
 (C)立法委員、高雄市長
 (D)高雄縣長、高雄縣議員。

() 45 這是一則新聞報導：「警方破獲暴力討債集團，手段非常兇殘，現場查扣大批證物和支票，並依法逮捕數名幫派分子到案。」本報導內容最能彰顯法律哪一項特徵？

- (A)法律無規範人民在真實的事項
 (B)法律明確規定人民應遵守的事項
 (C)國家以強制力處罰違反法律規定者
 (D)國家需依照一定的程序來制定法律。

() 46 仔細閱讀圖三，下列哪一項資訊無法由圖中得知？

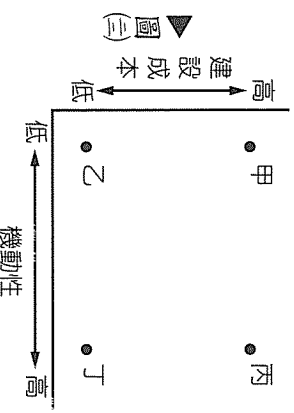
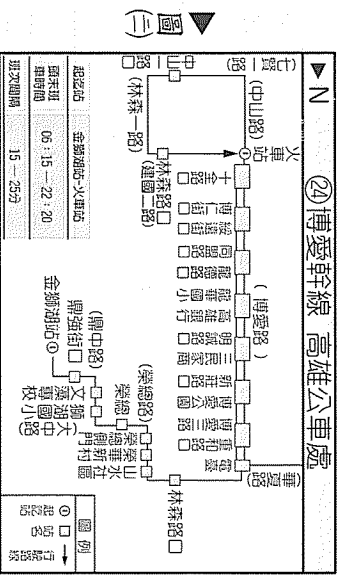
- (A)班車起點
 (B)停靠站名
 (C)行進方向
 (D)行車距離。

() 47 承第 46 題，無法得知該項資訊，是因上圖缺乏哪一項地圖要素？

- (A)圖名
 (B)方位
 (C)圖例
 (D)比例尺。

() 48 臺灣公路四通八達，上山下海遍及鄉鎮與大城市之間，這是因為公路擁有的特性與圖三)中何者相符合？

- (A)甲
 (B)乙
 (C)丙
 (D)丁。




請翻頁繼續作答

() 49. 臺灣 主要農業生產地帶經常可見各式水利設施，如桃園臺地的埤塘、彰化平原的八堡圳、嘉南平原的嘉南大圳與曾文水庫等。上述水利設施的形成與臺灣農業發展環境中的哪一項不利因素密切相關？

- (A) 地形多山，土壤流失嚴重
- (B) 生長季短，冬季多寒流
- (C) 耕作技術差，產量少
- (D) 降雨時間空間分布不均。

() 50. 中國電視劇「康熙帝國」有一幕戲：康熙時代進行多次實地測量，遍閱古今可能是當時世界上規模最大的製圖工程，此圖名為皇輿全覽圖（如圖(三)），是中國當時最精準，也是最齊全的地圖。請問：該圖能夠產生的歷史背景為何？

▲圖(三)



- (A) 新文化運動的影響
- (B) 鄭和下西洋的影響
- (C) 耶穌會傳教士傳入西學的影響
- (D) 鴉片戰爭後，師夷長技以制夷的影響。

() 51. 資料(一)：康熙時，有位詩人丁介寫道：「南國佳人多塞北，中原名士半遼陽」，詩句或許有些誇張，但確實有許多名士被流放到東北。


資料(二)：因為滿清以異族入主中國，為防範「反清復明」思想，採取高壓統治。學者為求避禍，只能投身古籍考訂，因此考據學興起。

請問：以上兩項資料與下列何事關係最密切？

- (A) 興文字獄
- (B) 實施廷杖
- (C) 東林黨爭
- (D) 薙髮留辮。

() 52. 下文是歷史月刊雜誌某期文章內容的部分敘述，請閱讀後，判斷下列對於「民主」和「共和」體制的說明何者最正確？

孫中山倡導革命，推翻專制政體，建立民主共和國。1911年12月2日革命黨光復南京的號外插圖，其中「國」字裡面「或」刻意改成「民」（如圖(四)），顯見百姓對民主自由的渴望。



() 53. 報載南投縣賽德克族文史傳承協會，為了賽德克族正名案，率領賽德克族代表前往行政院原住民委員會陳情，終於在2008年4月成為原住民第14族。請問：賽德克族的陳情是行使憲法所保障的何項基本人權？

- (A) 平等權
- (B) 自由權
- (C) 受益權
- (D) 參政權

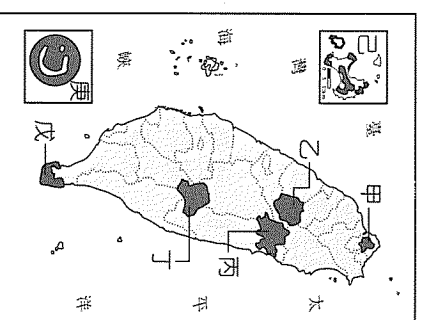
★小五學生拾金不昧等候失主
 ★皮件商人走私販賣仿冒名牌
 ★退休教師走捐藏書成立圖書館
 ★虔誠信徒行善數十年如一日

▲圖(五)

- () 54 圖(五)是小濤為了完成公民學習單所蒐集的新聞標題內容，根據內容判斷，下列何者最可能是此學習單的主題？
 (A)社會變遷
 (B)社會分工
 (C)社會規範
 (D)社會角色。
- () 55 彰化縣的長樂社區裡有一條「小西街」，儘管年代更迭，巷弄間仍保留多處令人玩味的角落，如「吳家祠堂」、「楊氏家祠」。請問：上述宗祠是早期來臺開墾的移民，因何種關係而留下的文化遺產？
 (A)同鄉關係
 (B)職業關係
 (C)地緣關係
 (D)血緣關係。

二、題組：(56~63題)

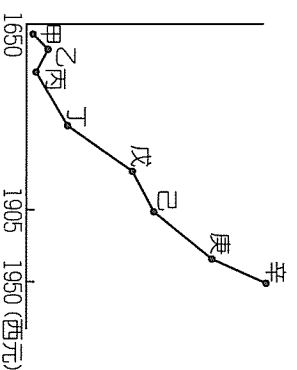
國家公園是指具有國家代表性的自然景觀或史蹟。臺灣地區自推動國家公園與保育工作以來，迄今已相繼成立了七座國家公園，圖(六)是七座國家公園位置圖，請回答第56~57題：



▲圖(六)

- () 56 有關於圖(六)各國家公園景觀的配對何者正確？
 (A)甲—玄武岩地形、鳥類自然資源
 (B)乙—佳陽沖積扇、大甲溪溪谷
 (C)丙—花岡岩峽谷、硫磺噴氣孔
 (D)丁—高山溪谷、清水斷崖。
- () 57 圖(六)中的庚國家公園最近才成立，以熱帶海域與環礁為主題，在衛星圖上的外形宛如「上帝的指環」。請問：庚國家公園位於下列哪一海域？
 (A)東海
 (B)太平洋
 (C)臺灣海峽
 (D)南海。

閱讀下列臺灣人口成長曲線圖，請回答第58~60題：



▲圖(七)

- () 58 根據圖(七)從庚到辛，人口又急速增加，這種情況應出現在哪一時期？
 (A)日本據臺初期，將大量日本人移民到臺灣
 (B)日治時期，農業環境改善，養活更多人口
 (C)中國大陸淪陷，各省人口遷移到臺灣
 (D)第二次世界大戰結束，戰後嬰兒潮出現。
- () 59 史書描寫某一族群因戰爭因素而向外移民，並指出：「這一個族群移植到新土地，其制度、社會和生活方式亦隨之而至，堅持漢文化，延續漢人政權。」這一政治集團自始至終堅守對等談判地位，提出「不削髮」、「不入貢」的主張，是哪一族群？
 (A)13世紀西征的蒙古人
 (B)17世紀中期，移往臺灣的鄭成功政治集團
 (C)鄭和下西洋後，移民東南亞的中國人
 (D)20世紀前期，移民東北的偽滿洲國。

- () 60. 歷史人物的評價常因時空或立場的改變而有差異，2005 年中共制定反分裂國家法不
排除武力統一，宣傳「統一中國」，大規模正面評價某一人物，稱其為維護國家統
一的英雄，並在其家鄉福建晉江塑立石像。請問：此人物較可能是下列何人？
- (A) 鄭成功
(B) 施琅
(C) 張學良
(D) 秦始皇。

交通部日前修正道路交通安全規則第 114 條，酒精濃度檢測門檻將從現行的每公升 0.25 毫
克降低到每公升 0.15 毫克。酒測濃度各級距的罰鍰也提高，如表(四)所示，這項新措施最
快於 6 月實施，請回答 61～63 題：

酒駕罰則

酒測值	機車	小型車	大型車
罰鍰金額			
0.55～0.55 毫克以上	45000 增為 49500	49500 增為 52500	52500 增為 60000
0.4～0.55 毫克	30000 增為 35000	34500 增為 40500	37500 增為 44500
0.25～0.4 毫克	15000 增為 18000	19500 增為 29500	22500 增為 33500
0.55 毫克以上	依刑法公共危險罪移送法辦		

▲表(四)

- () 61. 道路交通安全規則第 1 條明定：「本規則依道路交通管理處罰條例第 92 條第 1 項規
定訂定之。」由此可知，道路交通安全規則屬於哪一種法令？
- (A) 憲法
(B) 法律
(C) 職權命令
(D) 授權命令。
- () 62. 根據上述內容，酒駕者必須先負起何種法律責任？
- (A) 民事責任
(B) 刑事責任
(C) 行政責任
(D) 道義責任。
- () 63. 交通部主管全國交通行政及交通事業，負責交通政策、法令規章之釐定和業務執行
之督導。請問：交通部隸屬於哪一個中央政府機關？
- (A) 總統府
(B) 行政院
(C) 立法院
(D) 司法院。