

國民中學學生基本學力測驗

社會科

模擬題本

第 3 冊

※範圍細目：

【地理】臺灣地理復習
【歷史】臺灣歷史復習
【公民】個人、社會與生活復習

※測驗範圍：1～2冊

※總分：80分

※測驗時間：70分

標分

80分

年 班 號 姓名：

◎請閱讀以下測驗作答說明：

測驗說明：

這是國民中學學生基本學力測驗社會科題本，題本採雙面印刷，共11頁，有63題選擇題，每題都只有一個正確或最佳的答案。

注意事項：

1. 所有試題均為四選一的選擇題，答錯不倒扣。
2. 試題中所附圖形，僅作為參考，不一定代表實際大小。
3. 可利用題本中空白部分計算，切勿在答案卡上計算。

作答方式：

1. 題本直接作答：
請依照題意從四個選項中選出一個正確的答案，填寫在題號前的括弧中。
也可搭配答案卡作答：
2. 請依照題意從四個選項中選出一個正確的答案，並用2B鉛筆在答案卡上相應的位置畫記，請務必將選項塗黑、填滿。如果需要塗黑、塗滿。請即：**Ⓐ** **Ⓑ** **Ⓒ** **Ⓓ**

乾淨，重新塗答案。若將**Ⓑ**選項塗黑、塗滿。請即：**Ⓐ** **Ⓑ** **Ⓒ** **Ⓓ**

以下為錯誤的畫記方式可能導致電腦無法正確判讀。

如：

<input type="radio"/> Ⓐ	<input type="radio"/> Ⓒ	<input type="radio"/> Ⓓ	未將選項塗滿
<input type="radio"/> Ⓑ	<input type="radio"/> Ⓓ	——	未將選項塗黑
<input type="radio"/> Ⓐ	<input type="radio"/> Ⓒ	<input type="radio"/> Ⓓ	未擦拭乾淨
<input type="radio"/> Ⓑ	<input type="radio"/> Ⓒ	<input type="radio"/> Ⓓ	塗出選項外
<input type="radio"/> Ⓐ	<input type="radio"/> Ⓒ	<input type="radio"/> Ⓓ	同時畫記兩個選項

參考配分：

單題：1.～46題每題1分，47.～54題每題2分
題組：55.～63題每題2分
共80分

一、單題：(1.~54題)

- () 1. 去別佳旅行社推出金門之旅行程。請問：下列哪個行程廣告標題較合理？
 (A) 乘風破浪，體驗熱帶海灘風情
 (B) 世界美景，玄武岩柱撼動人心
 (C) 崇山峻嶺，亞熱帶的冰原景觀
 (D) 花崗奇岩，品味閩南傳統文化。

- () 2. 柿餅達人評論：「客家話『九降風』，就是9月降臨的風，最大陣風可以到9級，溼度較低，所以柿子的水分子會被它吹走。」請問：所謂的九降風，就是何種氣候現象？
 (A) 颱風
 (B) 季風
 (C) 焚風
 (D) 龍捲風。

- () 3. 某產業雜誌報導：「K國人口眾多，工資普遍低廉，且政府政策開放，建議下列產業前往投資……。」請問：就上述這段話，下列哪個廠商最不適合前往K國投資？
 (A) 紅海液晶螢幕
 (B) 圓師父食品行
 (C) 究肝心紡織廠
 (D) 艾達達運動鞋。

- () 4. 表(-)是某年臺灣部分縣市的人口統計資料。請問：哪個地區該年有「人口負成長」的現象？
 (A) 桃園縣
 (B) 高雄縣
 (C) 臺東縣
 (D) 臺北市。

	桃園縣	高雄縣	臺東縣	臺北市
自然增加率 (%)	5.27	2.42	0.21	2.72
社會增加率 (%)	11.00	-0.30	-12.79	3.33

▲表(-)

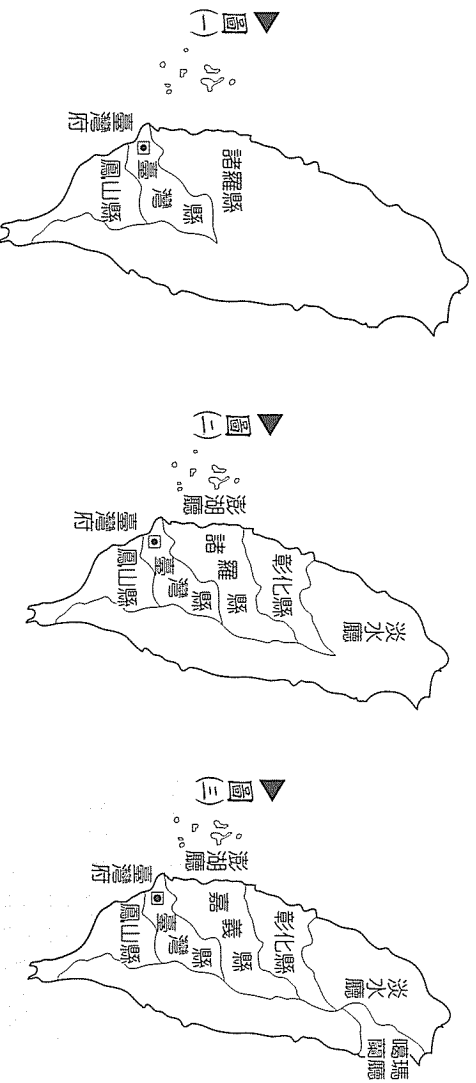
- () 5. 水果日報短訊：「漁業養殖技術突飛猛進，由吳郭魚改良而來的臺灣鯛，繼蝴蝶蘭、芒果、茶葉後，被農委會選為臺灣第四大旗艦外銷出口品。」由此可見，臺灣第一級產業應採取何種策略才能因應加入WTO以後的國際競爭？
 (A) 增加第一級農業就業
 (B) 提高第一級產品的品質
 (C) 採取第一級產品促銷策略
 (D) 擴大產業的經營規模。

- () 6. 史前遺跡提供人類了解先民的生活與當時的環境，是一種寶貴的歷史資料，但臺灣的土地有限，在高密度的土地開發下，經常發現史前遺跡被破壞的消息。請問：因為政府要興建南迴鐵路及修築臺東新站而被破壞的史前遺跡是哪一個？
 (A) 圓山遺址
 (B) 十三行遺址
 (C) 卑南遺址
 (D) 大坌坑遺址。

- () 7. 清領時期，臺灣開始推動現代化建設：到日治時期，總督府更進一步發展臺灣的基礎建設。請問：下列何者是這兩個時期共同擁有的建設項目？

- (A) 成立水力發電所
 (B) 修建高速公路
 (C) 修築鐵路
 (D) 成立銀行。

() 8. 根據這三個臺灣行政區圖，回答下列問題。



請問：圖(一)演變成圖(二)與哪一事件有關？

- (A) 郭懷一事件
- (B) 朱一貴事件
- (C) 林爽文事件
- (D) 戴潮春事件。

() 9. 承第 8 題，圖(二)演變成圖(三)說明了哪一項歷史事實？

- (A) 分類械鬥，已嚴重波及全臺
- (B) 漢人拓墾已擴展到東部
- (C) 開港通商，使得臺灣的經濟往北部發展
- (D) 臺灣建省使行政區增加為一府四縣三廳。

() 10. 某一位總統在就職宣言之時曾說：「……全臺市民不勝悲憤，當此無天可賴，無主可依，臺民公議自立為民主之國」、「惟是臺灣疆土，自大清締造二百餘年，今雖自立為國，感念列聖舊恩，仍應恭奉正朔，遙做屏藩，氣脈相通，無異中土」。根據上文的內容，以你的歷史知識判斷，以下四人誰的推論最合理？

- (A) 依晨：這位總統是唐景崧
- (B) 小朱：建國的目的是在抗清
- (C) 玉麟：「念列聖舊恩」是指懷念明朝
- (D) 阿倫：「自大清締造二百餘年」是從滿清入關至清亡。

() 11. 「星光大道」、「超級偶像」都是臺灣紅極一時的歌唱節目，參加的選手需經過無數次的比賽、無數次的修正，最後方能贏得比賽。請問：依馬斯洛的需求理論而言，參賽選手不願放棄，一步一步往前努力，是為了滿足哪一層次的需求？

- (A) 生理
- (B) 愛與歸屬
- (C) 安全
- (D) 自我實現。

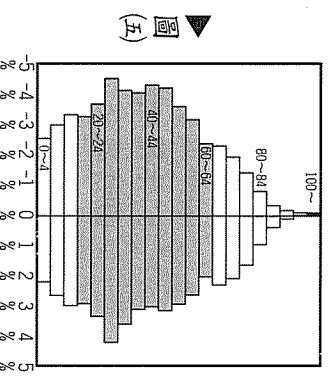
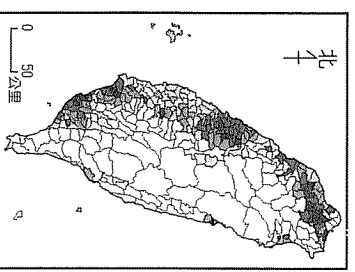
() 12. 子曰：「譬如為山，未成一簣，止，吾止也！譬如平地，雖覆一簣，進，吾往也！」這句話的意思對於就讀國中的學生來說，若將他用於自我成長中的哪一過程中有很大幫助？

- (A) 心理建設
- (B) 知識學習
- (C) 休閒玩樂
- (D) 情感交流。

	
主題一	腦麻天使楊淑怡
主題二	又瞎又聾的海倫凱勒
主題三	拾荒興建圖書館的王貫英
主題四	創立伊甸基金會的劉俠女士

▲表(一)

- () 13. 表(一)是翰林國中班會要討論的主題。根據內容判斷，這次班會的討論主旨與下列何者相關？
- (A) 尊重生命、愛惜生命
(B) 自我放棄、自我追逐
(C) 生命有限、即時行樂
(D) 順天應命、自然而死。
- () 14. 在秦朝所興建的長城，對後來的朝代，可以說是發揮了強大的作用。請問：若就馬斯洛的需求層次理論來看，興建「長城」主要發揮了哪一層次的作用？
- (A) 生理需求
(B) 愛與歸屬的需求
(C) 安全需求
(D) 尊重需求。
- () 15. 青少年的觀念從過去「以家為重，謹遵父命的觀念」，到今日的「只要我喜歡有什麼不可以、錢多事少離家近」，甚至有人不理會家人的勸告，從事檳榔西施或是網路接交的工作。請問：從上述的說明中，我們可以了解家庭的哪一項功能式微？
- (A) 生育
(B) 經濟
(C) 教育
(D) 保護與照顧。
- () 16. 英國生物物理學家古里馬在其航海日記中寫到：「有知的世界中，最高的海崖就在我們眼前揭開面貌，它是壯麗的。很少有懸崖能比美國加州優勝美地更驚人……；但這些，在巨大懸崖的福爾摩沙旁邊，都變得渺小而微不足道。」請問：文中所描述的可能斷崖出現在臺灣何處？
- (A) 安平一帶
(B) 東部海岸
(C) 野柳海岸
(D) 墾丁南端。
- () 17. 圖(四)為臺灣某種地理現象的分布狀況。請問：圖中缺乏哪一項要素，使得地圖所要表達的資訊內容難以判讀？
- (A) 比例尺
(B) 座標
(C) 圖例
(D) 等高線。
- () 18. 在水深大於 200 公尺的海域，海水表層環境單純，魚種很少，海水深層缺乏光線，深海魚類也不多，所以臺灣周圍以哪一種海域可撈捕的魚種較少？
- (A) 東海地區 (B) 臺灣海峽
(C) 太平洋海域 (D) 南海一帶。
- () 19. 圖(五)為雲林縣的人口金字塔圖。請問：女性幼年人口在總人口中所占比例大約是多少？
- (A) 3%
(B) 8%
(C) 15%
(D) 20%。



國家	人口數	面積 km ²
(甲) 葉門	21,000,000	530,000
(乙) 斯里蘭卡	21,000,000	66,010
(丙) 北韓	23,000,000	121,000
(丁) 臺灣	23,000,000	36,000

▲表(三)

- () 20 表(三)是幾個人口總數相近的國家。請問：依據人口密度由大至小排列，下列選項何者正確？
- (A) (甲)(乙)(丙)(丁)
 (B) (甲)(丙)(乙)(丁)
 (C) (丁)(乙)(丙)(甲)
 (D) (丁)(丙)(乙)(甲)。
- () 21 「因為 2 月 28 日的警民衝突事件，民眾齊聚臺北新公園，隨後進占臺灣廣播電臺向全臺廣播，混亂局面乃逐漸蔓延全臺，造成重大衝突與傷害。」請問：此事件發生時，負責執行臺灣政務的最高行政單位為何？
- (A) 臺灣總督府
 (B) 臺灣省政府
 (C) 臺灣省行政長官公署
 (D) 國民政府。
- () 22 根據下列這兩段敘述推論，所評論的人物是誰？

(一) 德國學者魏斯說：「對於臺灣而言，中國血統和文化的進入，是一件畫時代的事件。」

(二) 史家評：「以海島抵抗中原，……建立制度，銳意建設臺灣，但剛愎的領導性格，部屬的謀權奪利、派系紛爭和脫離現實的企圖心，使得理想成空。」

- (A) 鄭成功
 (B) 康熙
 (C) 沈葆楨
 (D) 劉銘傳。
- () 23 某一資料內容如下：

公司招募閩粵漢人來臺拓墾，提供土地、農具和種子，種植稻米、甘蔗，並引進耕牛，新品種蔬菜、水果和製糖技術。當時甘蔗、稻米均屬商品作物，除了供應全島內所需之外，輸出所得逐年遞增，成為公司重要財源。

- 請問：上述資料中的農業拓墾出現在臺灣哪一個時期？
- (A) 荷據時期
 (B) 明鄭時期
 (C) 清領時期
 (D) 日治時期。
- () 24 有一篇敘述臺灣產業活動變遷的史料記載：「30 年前，臺灣北部可耕種的土地，大部分用來種植稻米，因此每年有大量稻米運銷中國大陸。然而，自從茶農在高地種植茶業後，每年揀茶、買賣茶葉的人，便越來越多。由於種茶的人越來越多，而種稻者越來越少……，到後來，臺灣不僅沒有稻米可以運銷中國大陸，反而經常需要向外地搬糧救急。」請問：文中的產業活動變遷，其背景因素為何？
- (A) 開港通商
 (B) 牡丹社事件
 (C) 臺灣建省
 (D) 皇民化運動。

- () 25. 清代臺灣一位詩人，用客家語作了一首長詩渡臺悲歌，內容：「勸君切莫過臺灣，臺灣恰似鬼門關，千個人去無人轉，知生知死都是難。就是窖場（墳場）也趕去，臺灣所在滅人山（必死無疑），臺灣本係福建省，一半漳州，一半泉州。一半廣東人居住，一半生番併熟番……。」請問：此內容與當時政府頒布的哪一政策有關？
- (A) 開港通商
(B) 渡臺禁令
(C) 海禁政策
(D) 建省命令。

- () 26. 家庭是由血緣、婚姻與收養等關係所組成，下列關於親屬關係的配對，何者有誤？

大雄有兩位姐姐，均在去年結婚，兩位姐夫形成(甲)連襟關係，而兩位姐夫跟大雄的父親形成(乙)姻親關係。大姐因為無法生育，透過法律程序(丙)認領一位孤兒，在外自住組成幸福美滿的(丁)小家庭。

- (A) (甲)
(B) (乙)
(C) (丙)
(D) (丁)。

- () 27. 新聞報導中，有部分外籍新娘慘遭家暴，苦不堪言。請問：這樣的例子，除了尋求警察單位的協助外，還可透過下列哪一個機構保護自己？

- (A) 董氏基金會
(B) 勵馨文教基金會
(C) 更生保護會
(D) 陽光基金會。

- () 28. 李老師想要訓練同學開班會的能力，所以向同學說明學生自治的概念。請問：根據表(四)學生自治的程序應如何排列？

甲	成立自治組織
乙	制定自治規則
丙	推展自治工作

▲表(四)

- (A) 甲 乙 丙
(B) 甲 丙 乙
(C) 乙 丙 甲
(D) 丙 甲 乙。

- () 29. 學者的途徑可分為「正規教育」與「非正規教育」，前者指的是系統化、規則化的學習方式，後者指的是正規教育以外的學習途徑。請問：表(五)中，哪一組就是所謂的「非正規教育」？

甲	國家圖書館、暨南大學
乙	歷史博物館、縣市文化中心
丙	臺中一中、北一女中
丁	市立美術館、復興美工

▲表(五)

- (A) 甲
(B) 乙
(C) 丙
(D) 丁。

- () 30. 小賴在報紙上讀到圖(六)二則人物專訪，從訪問中我們可以發現，下列何種觀念在現今社會中已慢慢產生改變？

- (A) 倫理觀念
(B) 社會流動
(C) 性別角色
(D) 角色模擬。



- () 31 圖(七)為某種水果栽培地區的分佈圖，根據報導：「這種水果經過多年栽培與智慧累積，導致果實緻密，汁多、脆甜聞名，並入選網路票選臺灣十大代表水果之一。」請問：此報導最可能是指哪一種水果？

(A) 水梨
(B) 榴槤
(C) 水蜜桃
(D) 蓮霧。

- () 32 巨人自行車公司欲舉辦環島公路自行車競賽，預計由臺北出發，經由縱貫西部平原的省道臺1線南下至高雄。請問：上述的路段，應該不會經過哪一個縣市？

(A) 臺北縣
(B) 臺中縣
(C) 南投縣
(D) 嘉義縣。

- () 33 圖(八)的照片和文章是小乖寒假和同學出遊的網路遊記中的一段記載。請問：他們的旅遊地點最可能是臺灣何地？

(A) 東北角海岸
(B) 東港 大鵬灣
(C) 墾丁 南灣
(D) 新竹沿海。

- () 34 (甲)山區的清境農場民宿(乙)沿海魚塭超抽地下水(丙)上游河谷興建攔砂壩(丁)南投地區大量種植檳榔樹。請問：哪些土地利用方式可能會加劇土石流災害？

(A) (甲)(丙)
(B) (甲)(丁)
(C) (乙)(丙)
(D) (乙)(丁)。

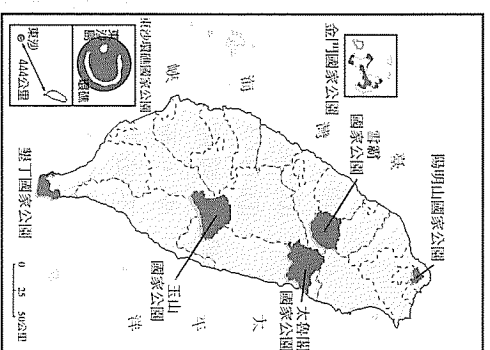
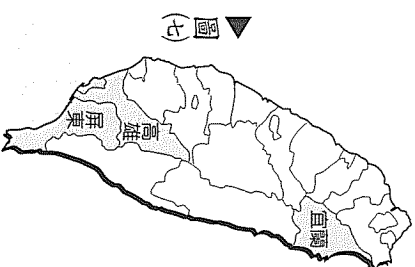
- () 35 圖(九)是臺灣的國家公園分佈圖。請問：在各個國家公園中，哪種景觀出現的次數最多？

(A) 閩南建築
(B) 火山地形
(C) 珊瑚生態
(D) 針葉林。

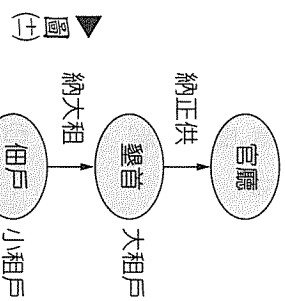
- () 36 老師在黑板上畫一條直線代表臺灣歷史發展歷程，並標示時間(如圖(十))。老師問：「臺灣歷史由乙進入丙階段，除積極建設臺灣之外，臺灣地位與重要性也大幅提升。」請問：乙進入丙階段主要與哪一事件有關連？



(A) 牡丹社事件
(B) 中法戰爭
(C) 甲午戰爭
(D) 中日戰爭。



() 37. 庭芬到圖書館找資料，看到一本臺灣史內容中的某一圖表（如圖(±)）。請問：此圖表是出現在臺灣哪一時期、意義為何？



() 38. 臺灣交通建設發展快速，帶動了各地經濟繁榮。下列關於臺灣交通建設的敘述，何者正確？

- (A) 日治時期完成了西部縱貫鐵路電氣化
 (B) 沈葆楨時修築三條通往東部的路線
 (C) 劉銘傳來臺完成基隆到高雄的鐵路縱貫線
 (D) 國際競爭時期，西班牙人開始在臺灣北部修築鐵路。

() 39. 原住民原為 9 族，行政院陸續在民國 90、91、93、96 及 97 年增加了邵族、噶瑪蘭族、太魯閣族、撒奇雅雅族及賽德克族等五族，目前原住民共有 14 族。回顧臺灣歷史，每一時期政府當局對原住民採取不同的政策，以下敘述何者符合史實？

- (A) 荷據時期，為原住民拼寫文字，稱為新港文
 (B) 明鄭時期，為原住民子弟實施宗教教化
 (C) 清領時期，為原住民設立「番人公學校」
 (D) 日治時期，對原住民採隔離政策，立碑石或土牛溝為界。

() 40. 國際競爭時期的歐洲人經營臺灣的模式，與日治時期的總督府在臺灣推動各項基礎建設有其異同，其中最大的「差別」是什麼？

- (A) 進行社會控制
 (B) 加強西式教育
 (C) 推動經濟改革
 (D) 傳播基督教。

() 41. 社會規範分為法律、倫理道德、風俗習慣與宗教信仰，各對社會成員發揮不同的約束力。請問：表(六)有關「法律」與「風俗習慣」的比較，何者有誤？

▲表(六)

項目	(甲)規範作用	(乙)形式	(丙)違反結果	(丁)強制力
法律	約束外在行為	需經立法程序	受國家公權力處罰	具強制力
風俗習慣	約束內在良心	需經宗教認可	受良心譴責	不具強制力

- (A) (甲)
 (B) (乙)
 (C) (丙)
 (D) (丁)。

() 42. 小賴剛買的預售屋，已經在近期完工，但是有些小地方的設施建商還在繼續施工中，而居民們為了讓自己所居住的社區擁有最佳的品質，以及避免日後與建商產生不必要的糾紛，於是大夥彼此分工，每天輪流至社區監看施工情形。請問：這表現出了下列何種概念？

- (A) 社區營造 (B) 社區服務
 (C) 社區參與 (D) 社區文化。

() 43. 小美在作文中寫道：「一塊美味的蛋糕，需要經過農人種植小麥，小麥經過加工製成麵粉，有了麵粉後，還需要有人飼養雞，生出雞蛋，最後需要一位技術高超的蛋糕師傅完成作品……。」請問：此內容說明了何種概念？

- (A) 社會分工 (B) 社會互動
 (C) 社會角色 (D) 社會規範。

() 44. 希拉蕊與歐巴馬曾為了取得美國民主黨的提名，雙方進行激烈的選戰。請問：兩人之間是屬於何種社會互動方式？

- (A) 合作
- (B) 衝突
- (C) 同化
- (D) 競爭。

() 45. 小賴老師為刺激班上同學對於公民課的興趣，於是推出集點遊戲，如果每答對一大題就可以獲得 3 點，集滿 30 點，可以換得一杯珍珠奶茶。請問：如果小明想要得到 3 點，針對圖(五)的這一大題，其答案應是什麼？

- (A) ○○○○×
- (B) ○×○○○
- (C) ○○○×○
- (D) ×○○○○。

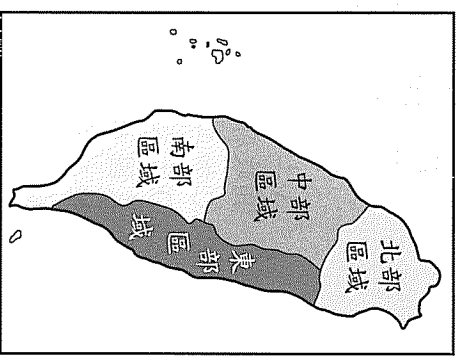
隨堂考：是非題

- () 1. 國民黨屬於政治性團體
- () 2. 董氏基金會屬於社會性團體
- () 3. 計程車工會屬於職業性團體
- () 4. 臺南同鄉會是工作取向團體

▲圖(五)

() 46. 「彰化縣蔬菜產量占全臺灣總產量半數以上，溪湖鎮的果菜市場，是臺灣地區最大的蔬菜集散地。」根據上述資訊判斷，圖(六)中哪一個區域是主要的產品生產基地？

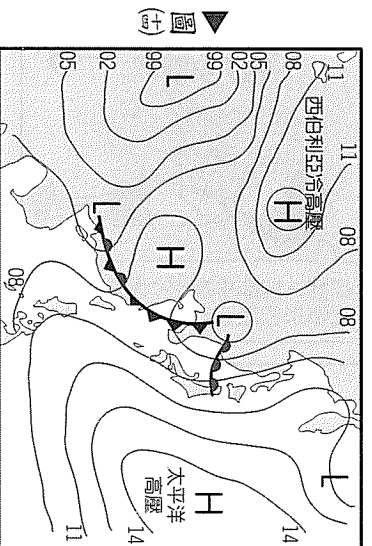
- (A) 北部
- (B) 中部
- (C) 南部
- (D) 東部。



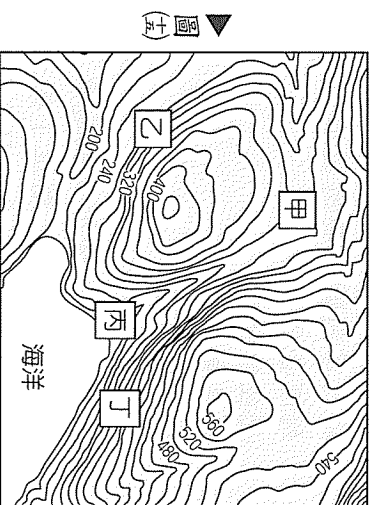
▲圖(六)

() 47. 圖(七)為臺灣某種天氣災害發生時的地面天氣圖，根據圖中資訊判斷，此處所指的天氣災害應是下列何者？

- (A) 颱風
- (B) 梅雨
- (C) 寒害
- (D) 旱災。



▲圖(七)



▲圖(八)

() 48. 圖(八)中何地最可能是河谷地形？

- (A) 甲
- (B) 乙
- (C) 丙
- (D) 丁。

() 49. 國柱到學校聽到一則訊息：「總督府下令公學校裡，取消漢文課程，上、下課都使用日文，全面接受皇國思想」、「報紙全面取消漢文版面」、「下級機關也比照辦理，嘉義市役所（市政府）拒絕受理用臺語洽公的民眾，高雄州也規定公車上禁止用臺語交談。」請問：國柱所聽到的訊息其實是政府當局在推行哪一政策？

- (A) 民族自決
- (B) 戒嚴令
- (C) 同化政策
- (D) 皇民化運動。

() 50. 表(七)為臺灣地區國中小學生就學率的統計圖。根據下列資料判斷，民國 56~57 年之間的變化原因為何？

學年度	國民小學			國民中學		
	校數	學生數	就學率	校數	學生數	就學率
39	1,231	906,950	79.98	---	---	---
40	1,248	970,664	81.49	---	---	---
45	1,537	1,344,432	93.82	---	---	---
50	1,932	1,997,016	96.00	---	---	---
56	2,208	2,348,218	97.52	---	---	---
57	2,244	2,383,204	97.67	487	617,225	74.17
58	2,275	2,428,041	97.62	525	710,818	75.53

▲表(七)

- (A) 土地改革成功，帶動教育發展
- (B) 政府推行九年國民義務教育
- (C) 加工區出口的設置，需要較高學歷人才
- (D) 十大建設促進經濟復甦，帶動教育發展。

() 51. 民國 60 年代，臺灣的大同電鍋曾是國產家電產品的代表，享譽世界，政府大力推動輕工業，拓展海外市場，將國產商品推銷至全世界。請問：此時政府推動的經濟策略為何？

- (A) 產業升級
- (B) 進口替代
- (C) 出口導向
- (D) 經濟自由化、國際化。

() 52. 圖(六)是丁丁與呆呆兩人的對話，就其對話的內容判斷，其所討論的議題有可能為下列何者？

- (A) 社會分工
- (B) 社會互動
- (C) 社會團體
- (D) 社會規範。

▲圖(六)



() 53. 民國 96 年，臺灣高鐵通車，讓臺灣交通邁入嶄新的紀元，縮短了南北兩地的通車時間，亦使臺灣成為一日生活圈。請問：這是哪一層面的變遷？

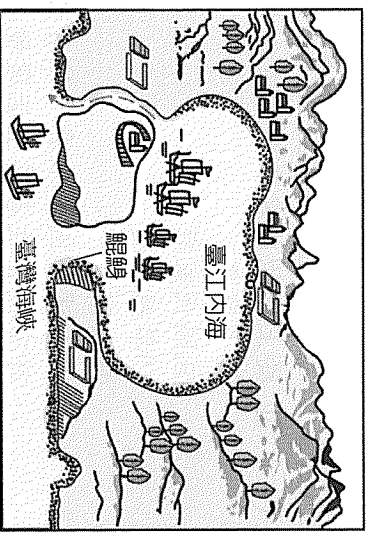
- (A) 社會制度、器物層次
- (B) 社會制度、價值觀念
- (C) 價值觀念、社會制度
- (D) 器物層次、心靈層次。

- () 54. 臺灣即將推動國民年金法案，內容規定由被保險人自付60%的費用，其餘由政府加以補貼，以保障人民的退休生活。請問：政府推動的國民年金法案屬於哪一項社會福利政策？
- (A) 福利服務
(B) 醫療保健
(C) 國民就業
(D) 社會保險。

二、題組：(55~63題)

請參考圖(七)，回答第55~57題：

- () 55. 「臺江內海」為何種地形？
- (A) 岬角
(B) 沙洲
(C) 潟湖
(D) 水庫。
- () 56. 圖中右下角的「鯤鯓」應是何種地形？
- (A) 岩石海岬
(B) 沿岸沙洲
(C) 珊瑚礁
(D) 斷崖。

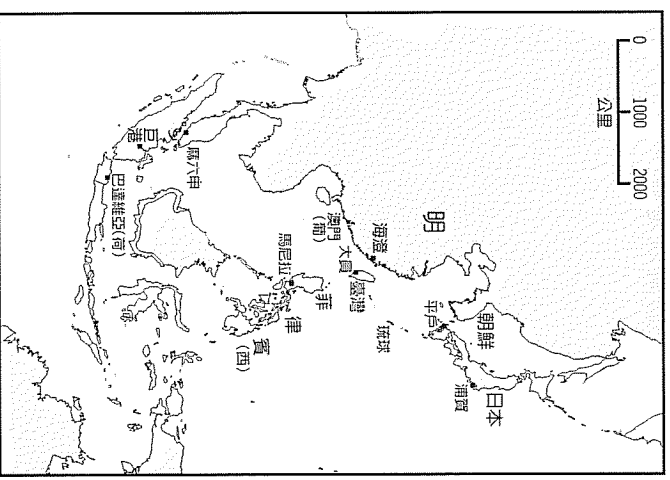


▲圖(七)

- () 57. 臺灣通史：「道光二年，夏秋雨，兼旬不霽，曾文灣裡各溪之水，膨漲而出，塗泥歸虛，積為平陸，而滄海變為桑田矣。」請問：下列何者是導致文中「滄海桑田」，港口淤積的主因？
- (A) 河川泥沙淤積
(B) 沿海人口減少
(C) 陸上交通發達
(D) 海流方向改變。

圖(六)為17世紀歐洲人在東亞的重要貿易據點，請根據圖示，回答第58~60題：

- () 58. 歐洲人此時在東亞建立的貿易據點，其主要歷史背景為何？
- (A) 匈奴人入侵歐洲
(B) 地理大發現
(C) 新帝國主義的侵略
(D) 工業革命。
- () 59. 有關17世紀歐洲人在東亞的貿易敘述，下列何者正確？
- (A) 西班牙是最早東來的歐洲人，占有澳門
(B) 葡萄牙占領馬尼拉，入據臺灣北部
(C) 荷蘭曾進駐澎湖，遭到驅離，之後在臺灣北部興建聖多明哥城
(D) 日本實施「鎖國政策」，但荷蘭人仍可至長崎貿易。



▲圖(六)

- () 60. 在西方勢力的競逐下，臺灣的社會發生不少的變化，以下哪一項資料是正確？
- (A) 爆發朱一貴抗荷事件
(B) 荷蘭人來臺傳播天主教
(C) 西班牙人來臺傳播基督教
(D) 荷蘭人大量招募漢人來臺開墾，且大量種植稻米、甘蔗。

某新聞報導「某國中生吃喝玩樂不上學，周旋於不同異性之間」，這是發生在臺灣社會的真實事件，由於該名少女（15歲）在幼年父母親離婚，母親又改嫁，因無法承受他人的指點點點，搬到鄉下與祖父母同住，在缺乏家庭溫暖的情況下成長，因此升上國中後，就不愛讀書，經常翹課，並與四名靚車族男子發生性關係，想來真是讓人不勝唏噓。請問：

- () 61. 從上述的內容來看，該名少女從小生活的家庭形態為何？
- (A) 小家庭
(B) 隔代家庭
(C) 單親家庭
(D) 大家庭。
- () 62. 從上述的例子來看，該名女生遭逢家庭變故後，若能有相關的機關適時的介入，或許有機會改善其生活環境。請問：如果你恰巧發現這樣的事實，依我國社會福利措施的內容來判斷，可以協助該名少女尋求何種協助？
- (A) 福利服務
(B) 醫療保健
(C) 國民就業
(D) 社會保險。
- () 63. 由於該名女生尚未成年，因此與其發生關係的四名男生，有可能需要面對下列何種社會規範的處罰？
- (A) 風俗習慣
(B) 宗教信仰
(C) 法律
(D) 倫理道德。